

1. () 七年戰爭 (1756~1763 年)，英國成為最大贏家，不但打敗法國獲得北美廣大殖民地，並確立印度殖民地的所有權，奠定日不落國的基礎，但龐大軍費也造成財政負擔，為此英國政府決定向殖民地增加收稅，沒想到卻引發另一事件產生。上述的「另一事件」是下列何者？ (A)義大利建國運動 (B)法國大革命 (C)德意志建國運動 (D)美國獨立運動。

答案：(D)

解析：英國為解決對外戰爭造成的財政負擔，向北美殖民地徵收新稅，但殖民地人民認為他們在英國國會沒有代表，拒絕納稅，因而揭開美國獨立運動序幕。

2. () 拉丁美洲能順利推動獨立運動，除了拿破崙橫掃歐洲以外，還有下列哪一因素？ (A)軍國主義盛行 (B)美國介入，反對歐洲干預 (C)法國發表「門羅宣言」 (D)俄國等殖民母國自顧不暇

答案：(B)

解析：美國發表「門羅宣言」，認為歐洲不該干涉美洲事務。

3. () 附圖是一幅政治漫畫，由漫畫內容判斷，這是諷刺美國在 19 世紀對拉丁美洲的哪一項外交政策？



(A)孤立主義 (B)姑息政策 (C)門羅宣言 (D)門戶開放。

答案：(C)

解析：美國「門羅宣言」的諷刺漫畫，警告歐洲列強不得越過界線介入美洲事務。

4. () 下列有哪些是維也納會議的原則？(甲)恢復各國王室統治權(乙)謀求歐洲的安定與和平(丙)維持各國勢力均衡(丁)傳播自由、平等、民主的觀念 (A)甲丙丁 (B)甲乙丙 (C)甲乙丁 (D)乙丙丁。

答案：(B)

解析：(丁)為拿破崙稱霸歐洲期間的作為。

5. () 2016 年 7 月 9 日是阿根廷宣布獨立 200 周年紀念日，阿根廷政府在宣布脫離殖民母國獨立的城市舉辦盛大的慶祝活動。下列何者不是兩百年前阿根廷展開獨立運動的背景？ (A)受到啟蒙運動的影響 (B)法國大革命的鼓舞 (C)拿破崙稱霸歐洲 (D)華盛頓的領導。

答案：(D)

解析：(D)華盛頓為美國人。

6. () 南方國中一年一度的歷史短劇表演，今年的主題是「恢復古羅馬光榮」。請問：下列哪一段劇情不會出現在短劇中？ (A)加富爾被任命為首相 (B)馬志尼宣揚民族意識 (C)加里波底將征服的地區獻給國王 (D)義大利國王趁德法戰爭，在巴黎凡爾賽宮即位。

答案：(D)

解析：(D)普魯士在德法戰爭中戰勝法國後，普魯士國王在巴黎凡爾賽宮即位。

7. () 19 世紀前期，奧國的首相說：「各國國王應當思量他們在未來還有多少機會可以安坐王位，除非各國團結合作，維護政治體制，否則歐洲社會將會崩解。」此後奧國首相採取什麼行動？ (A)召開維也納會議 (B)參與獨立戰爭 (C)擁護拿破崙 (D)宣揚自由、平等、博愛的精神。(1-2)

答案：(A)

8. () 有位外交官參加 1919 年的一場國際和會，原本期望大會能對戰費、領土等議題做出公正明智的處置，但最後的決議卻令他失望。他表示：「許多代表運用詭辯來掩飾他們的報復行為，強索巨額賠款，又屈從於強權，不能公正處理領土問題。」請問：這位外交官批評的是下列何者？ (A)德法戰爭之後，德國對法國的處理 (B)《凡爾賽條約》中，協約國對德意志的處置 (C)維也納會議中，戰勝國對拿破崙的安排 (D)法國大革命後，反法聯盟對付法國的策略。

答案：(B)

解析：第一次世界大戰後，1919 年召開巴黎和會，會中戰勝國對德國要求巨額賠款。

9. () 附圖是某場會議的主導人物，請問：此場會議為何？



(A) 巴黎和會 (B) 維也納會議 (C) 開羅會議 (D) 三級會議。

答案：(A)

解析：美國總統威爾遜、英國首相勞合喬治與法國總理克里蒙梭三人主導巴黎和會。

10. () 非洲與歐洲隔著地中海相對，在過去曾被稱為「黑暗大陸」，直到何時開始成為歐洲列強大規模爭奪殖民地的對象？ (A) 18 世紀前期 (B) 18 世紀後期 (C) 19 世紀前期 (D) 19 世紀中期。

答案：(D)

解析：19 世紀中期起，歐洲列強瓜分非洲。

11. () 附圖中可見歐洲各國首領，圍坐在一塊名為非洲的蛋糕前，彼此爭論如何畫分非洲。請問：歐洲各國對非洲的瓜分，產生何種影響？



(A) 非洲全境皆淪為歐洲列強的殖民地 (B) 種下日後非洲境內戰爭頻仍的原因 (C) 在非洲被徹底瓜分前，美國提出《門羅宣言》 (D) 《門羅宣言》保障了非洲各國的獨立。

答案：(B)

解析：(A) 衣索比亞與賴比瑞亞未成為歐洲殖民地 (C) (D) 《門羅宣言》是針對拉丁美洲國家提出的。

12. () 造成 19 世紀帝國主義興起的主要因素，下列何者為非？ (A) 新興工業國家為了爭奪原料、礦產和市場 (B) 列強認為負有「教化」落後地區的使命 (C) 列強在民族自尊與愛國榮耀驅使下，彼此競爭 (D) 受到法國大革命的影響。

答案：(D)

解析：(D) 無關。

13. () 小威在比較 16 世紀和 19 世紀歐洲國家向外擴張，整理資料如附表。請問：小威哪一項寫錯了？

	16 世紀	19 世紀
背景	發現新航路	工業革命
目的	傳教、獲得亞洲商品	獲得原料和市場
對象	拉丁美洲	拉丁美洲、亞洲、非洲
舉例	印度成為英國殖民地	越南成為法國殖民地

(A) 背景 (B) 目的 (C) 對象 (D) 舉例。

答案：(D)

解析：(D) 印度成為英國殖民地是在 19 世紀。

14. () 1929 年 10 月發生某起影響全球局勢長達數年的大事件，附圖是同學對於該起事件發生原因的討論。請問：這個事件為何？



(A) 俄國爆發十月革命 (B) 德國併吞捷克 (C) 美國引爆經濟大恐慌 (D) 義大利建立極權政治。

答案：(C)

解析：1929 年美國紐約股票狂跌，引起全球性的經濟蕭條。

15. () 「某年，美國空軍飛臨敵區臺灣進行偵查空照，並於年底開始對臺灣各地的市街、車站、糖廠進行轟炸，臺灣西部縱貫公路與鐵路受創嚴重。」上述情況的發生，與下列何者關係最密切？〔103.會考修訂〕 (A)韓戰 (B)盧溝橋事變 (C)珍珠港事件 (D)美國與中華民國斷交。

答案：(C)

解析：珍珠港事件後，美國加入二次大戰(對日戰爭)，臺灣當時為日本統治，故被美國轟炸。

16. () 小雅記載有關第二次世界大戰期間諾曼第登陸的史事，其中僅有何者正確？ (A)時間是1941年6月 (B)援軍主力來自英國 (C)盟軍向義大利反攻 (D)最後迫使希特勒自殺，德國投降。

答案：(D)

解析：(A)1944年(B)美國(C)向德國本土推進。

17. () (甲)德軍進攻波蘭(乙)盧溝橋事變(丙)諾曼第登陸(丁)日軍偷襲珍珠港。小雅將上列與第二次世界大戰有關的史事，依發生先後順序排列，下列何者正確？ (A)甲乙丙丁 (B)乙甲丁丙 (C)乙丁丙甲 (D)丙乙甲丁。

答案：(B)

解析：(甲)1939年(乙)1937年(丙)1944年(丁)1941年。

18. () 有一本1926年出版的書籍，對於臺北名勝介紹如下：「圓山公園位在距離臺北車站1.8哩之處，隔基隆河與臺灣神社相望，樹木繁盛，滿山翠綠。園內有市立動物園，動物園飼養了來自世界各地的珍禽異獸，遊覽者眾，此動物園被公認是國內的五大動物園之一。」上述內容中「國內的五大動物園」最可能還包括下列何地的動物園？〔110.會考〕 (A)上海 (B)馬尼拉 (C)京城(首爾) (D)巴達維亞(雅加達)。

答案：(C)

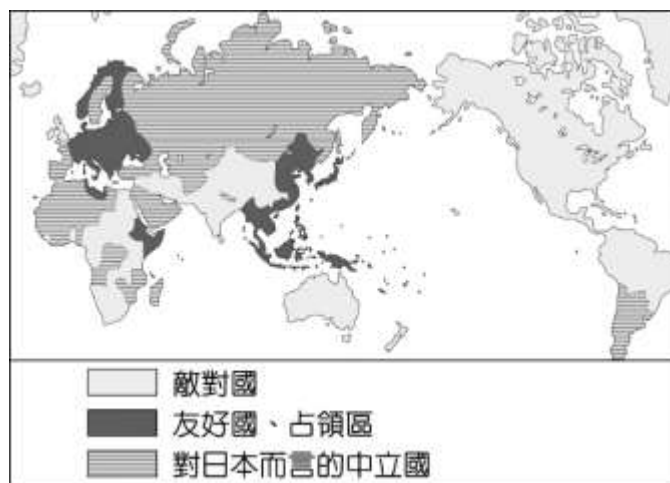
解析：1926年臺灣受日本統治，朝鮮則於1910年成為日本殖民地，直至1945年才獨立。

19. () 1930年代美國紐約股票狂跌，公司、銀行、工廠紛紛倒閉，失業者劇增；金融災害甚至蔓延全球，形成世界性的「經濟大恐慌」。請問：「經濟大恐慌」形成的順序為何？(甲)銀行擠兌風潮(乙)美國提高關稅(丙)歐洲經濟復甦(丁)自由市場停止流動 (A)甲丁乙丙 (B)乙丁丙甲 (C)丙乙甲丁 (D)丙乙丁甲。

答案：(D)

解析：歐洲經濟復甦→美國提高關稅保護國內工商業→各國仿效提高關稅→股市崩盤、銀行擠兌。

20. () 附圖是日本繪製的第二次世界大戰形勢圖，三種圖例代表與日本三種不同關係。從圖中標示的圖例，可得知這是1941年底太平洋戰爭爆發後的世界形勢，最主要的判斷依據應為下列何者？〔111.會考〕



- (A)英國和德國使用不同圖例 (B)英國和美國使用相同圖例 (C)朝鮮和日本使用相同圖例 (D)德國和日本使用相同圖例。

答案：(B)

解析：1941年底太平洋戰爭爆發，美國與中國加入同盟國陣營，與英國一同對抗日本，因此英國和美國均是日本的敵對國。(A)1939年開戰就隸屬不同陣營；(C)1910年日本已正式將朝鮮併入版圖；(D)1939年德、義、日即同屬軸心國陣營。

21. () 2022年8月30日，前蘇聯最後一任領導人戈巴契夫因腎臟問題及糖尿病惡化，當地時間30日晚間在莫斯科逝世，享壽91歲，各國媒體均有深入的報導。請問：有關他的貢獻報導，下列何者較無直接關聯？ (A)蘇聯的解體 (B)冷戰的結束 (C)東、西德的統一 (D)第三世界的興起。

答案：(D)

解析：1985年，蘇聯領導人戈巴契夫推動改革，不再干預東歐各國，不但造成東、西德的統一，蘇聯也正式解體，美、蘇間的冷戰也告一段落。

22. () 在1963年時，美國相信倘若有更迅速的溝通，必定能夠更快地化解，甚至避免美、蘇之間在前一年發生的危機。於是美、蘇兩國的代表在瑞士日內瓦簽訂《關於設立直接通訊線路備忘錄》，設立了後來被稱為「熱線」的系統。請問：上述在哪一危機落幕後，才深感溝通順暢對於避免重啟戰事的重要？ (A)柏林危機 (B)珍珠港事件 (C)韓戰 (D)古巴危機。

答案：(D)

解析：1962年爆發「古巴危機」。

23. () 在各種國際組織的投票過程中，有一大洲因為曾經飽受列強殖民侵略導致獨立後國家眾多，常成為各方勢力拉攏的對象。請問：上述的大洲位於附圖中何處？



(A)甲 (B)乙 (C)丙 (D)丁。

答案：(C)

解析：甲；澳洲，乙：中國，丙：非洲，丁：南美洲。非洲因為歷史背景成為世界上國家數最多的大洲。

24. () 卡爾斯基是「冷戰」時期蘇聯的情報員，那麼他最不可能奉派執行下列何種任務？ (A)破壞北大西洋公約組織活動 (B)蒐集越戰資料 (C)顛覆古巴政權 (D)支援華沙公約組織。

答案：(C)

解析：(C)古巴為親蘇的共產國家。

25. () 甲國的經濟結構原以蔗糖業為主，冷戰期間受到鄰近強國的經濟制裁，後經蘇聯經濟援助，其蔗糖業曾有輝煌的發展。但自蘇聯解體後，失去來自蘇聯的經濟援助，加上乾旱、颶風、國際糖價持續低迷和能源短缺等因素，使該國的蔗糖業陷入衰退。2011年該國政府實施糖業改革，積極投入生質能源的開發，利用甘蔗渣發電，帶動蔗糖業的另一波商機。甲國最可能是下列何者？〔106.會考〕 (A)巴西 (B)古巴 (C)北韓 (D)波蘭。

答案：(B)

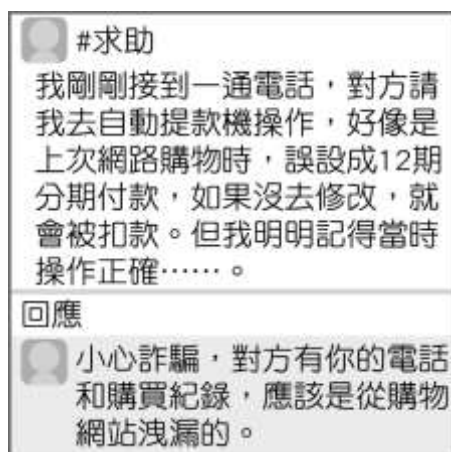
解析：文中所述甲國以蔗糖為主及冷戰時受鄰近強國經濟制裁，及颶風等條件判斷甲國為熱帶國家，故選(A)或(B)，但(A)巴西較少有颶風侵襲，故此題甲國為(B)古巴。

26. () 下列哪一史事發生後，蘇聯正式宣告解體？ (A)東、西德統一 (B)獨立國家國協組成 (C)以色列建國 (D)東歐共產政權瓦解。

答案：(B)

解析：1991年蘇聯的加盟國組成「獨立國家國協」，蘇聯正式瓦解。

27. () 一位網友在社群網站上貼文，如附圖所示，由內容可知下列何者的重要性？

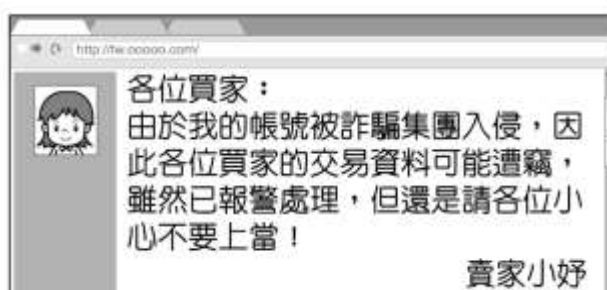


(A)消費支出控制 (B)機會成本計算 (C)契約自由保障 (D)資訊安全防護。

答案：(D)

解析：由求助內容可知消費者個人資料已被外洩。

28. () 阿卡在網拍上買了一支手機，之後收到賣家的一封信如附圖，信中內容顯示資訊科技發達所產生的下列何種問題？

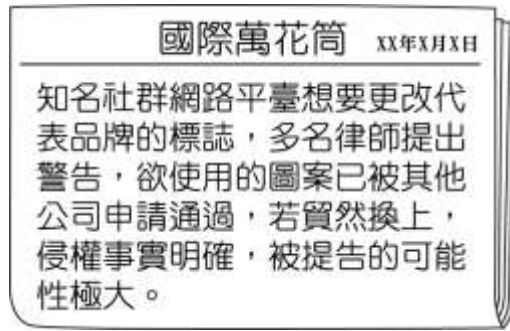


(A)資訊氾濫 (B)網路謠言 (C)個資外洩 (D)人際疏離。

答案：(C)

解析：詐騙集團利用網際網路竊取個人資料，以從事犯罪行為。

29. () 依龍看到一則報導如附圖，他心想若此事件發生在我國，應查詢哪一項法令以了解相關規範？



(A)《憲法》 (B)《商標法》 (C)《專利法》 (D)《著作權法》。

答案：(B)

解析：品牌標誌經申請審查通過後，取得商標權，即獲得法律保障。

30. () 小安讀到一則報導如附圖，請判斷報導中不小心被汙漬塗黑的部分，應為下列何項法律？



(A)《個人資料保護法》 (B)《商標法》 (C)《著作權法》 (D)《專利法》。

答案：(D)

解析：發明作品適用《專利法》。

31. () 阿鑫在課堂報告時提到：「……該法律規定，在推展科學技術時，政府應考量科技政策或計畫對環境生態的影響，並提供經費研究社會倫理與法律因應等相關問題。」根據上述內容判斷，他最可能是以下列何者為主題？〔94.第二次基測〕 (A)科技發展促進經濟成長 (B)資訊時代裡的國際關係 (C)科技發展對社會的衝擊 (D)資訊社會中的政治參與。

答案：(C)

解析：報告中提及科學技術的推展可能對環境生態造成影響與衝擊。

32. () 附圖中的對話可用來說明資訊科技發達造成下列何種隱憂？



(A)資訊氾濫造成內容真偽難辨 (B)資訊公開可能侵犯個人隱私 (C)網路犯罪危及民眾私人財產 (D)網路使用者成為散播假訊息的傳遞者。

答案：(C)

解析：網路傳播迅速且紛雜，容易成為詐騙集團利用的犯罪工具。

33. () 我國法律保障人民的智慧財產權，根據附圖判斷，偉群所發明的成果最可能為下列何者？



(A)多功能拖把 (B)科幻小說 (C)獨創舞步 (D)雲朵攝影照片。

答案：(A)

解析：(A)受《專利法》的保障，須經申請審查通過後始取得專利權(B)(C)(D)受《著作權法》的保障，著作完成時即取得著作權。

34. () 隨著電腦與網路結合後，資訊科技廣泛運用在各種領域中，智慧型手機的普及，更讓全球民眾打破時間與空間的限制。住在基隆的小浚，若想在12月1日時，準時收看英國當地時間下午1點的英格蘭足球超級聯賽，他應該在幾點時收看？(A)上午8點 (B)下午8點 (C)下午9點 (D)上午9點。〔一上地理 1-3、公民 1-1〕

答案：(C)

35. () 在警政署的統計數據中，網購詐騙比例高。詐騙集團在網站張貼不實資訊、盜用商品頁面供買家下單，或者隨機寄送劣質、未購買的商品給買家，導致買家受騙。下列敘述，何者最能呼應上文？(A)民眾可能轉發錯誤的網路資訊，讓不實訊息流傳 (B)網購詐騙問題可能導致消費者隱私權遭受到侵害 (C)網路詐騙使消費者對網購的信賴度產生負面影響 (D)五花八門的廣告，使得網路購物的比率大幅下降。

答案：(C)

36. () 祥惠繪製投影片說明某現象造成的影響(如附圖所示)。請問：祥惠說明的現象較可能為下列何者？



(A)全球關連 (B)社會運動 (C)投資風險 (D)計畫經濟。

答案：(A)

解析：英國公投結果決定脫歐，雖是英國人民的選擇，但卻造成其他國家股市暴跌，這種跨越國界的影響，即為全球關連現象。

37. () 2016年6月英國舉行全國公投通過同意脫離歐盟，全球股市市值在1天內縮水約新臺幣69兆。上述內容可說明下列哪一現象？(A)國家間的貧富差距 (B)經濟上的全球化 (C)國際貿易互惠互利 (D)全球化的正面影響。

答案：(B)

解析：英國脫離歐盟影響全球股市，為經濟全球化現象。

38. () 郁筠看到一則新聞(如附圖)，她決定以它作為寒假作業的主題，用來說明某種現象的發生。請問：郁筠所探討的主題應為下列何者？



(A)國際分工 (B)族群衝突 (C)文化交流 (D)全球關連。

答案：(D)

解析：新聞內容顯示，某一國家軍事行動的影響力不只限於該國，往往會牽連到許多國家，此屬於全球關連現象。

39. () 以下為一名同學寫的週記，根據內容判斷，畫底線處何者顯示「文化全球化」的現象？

生活記事

今天校慶，(甲)學校川堂布置成聯合國大會會場，介紹各個會員國，二樓會議室是(乙)臺灣原住民族傳統文化的展覽和族語教學，參觀完之後，我到操場的園遊會逛逛，(丙)201班賣古早味的愛玉冰，可以現場試做。最後來到(丁)208班的攤位是以「日本浴衣體驗」做為賣點，也分享許多日本習俗的小知識。

(A)甲 (B)乙 (C)丙 (D)丁。

答案：(D)

解析：日本文化向世界各地傳播，是「文化全球化」的現象。

40. () 許多企業研發各種可再生使用的產品，以減少地球資源的消耗，同時也改採視訊會議的方式來開會，以減少員工在交通往返上所花費的金錢與產生的汙染。上述做法的目的是為了符合下列哪一種概念？〔99.第二次基測修訂〕

(A)跨國企業的結合 (B)交通技術的革新 (C)網際網路的應用 (D)環境永續的推動。

答案：(D)

解析：可再生使用、減少資源消耗、減少通勤往返產生的汙染，皆是環境永續的概念。

41. () 以下為惠好蒐集的二則報導，根據內容推斷，這些爭議發生的原因最可能為下列何者？

◎某跨國企業的印尼工業廠房發生衝突事件，工人抗議作業環境惡劣和工資受到苛刻，群起放火燒毀宿舍。
◎知名服裝品牌設於孟加拉的服裝加工廠，被控訴壓榨工人，不僅工作超時，工作環境亦充滿有害的化學物質。

(A)開發中國家勞動力不足 (B)研發的商品附加價值高 (C)廠商之間面臨銷售競爭 (D)跨國企業壓低生產成本。

答案：(D)

解析：跨國企業為減低成本、增加利潤，剝削工人權益。

42. () 附表為丹丹週日白天的行程，從表中內容可看出與下列何者最相關？

時間	行程
09:00 ~ 10:30	收看外籍教師線上英文教學課程
11:00 ~ 13:00	與來自菲律賓的交換學生吃午餐
14:30 ~ 15:30	與在中國工作的爸爸視訊
16:00 ~ 17:30	透過網路了解國際一週大事

(A)商業快速發展 (B)交通運輸發達 (C)全球化的影響 (D)地球村的挑戰。

答案：(C)

解析：表中內容皆為全球化帶來的影響。

43. () 許多企業研發各種可再生使用的產品，以減少地球資源的消耗，同時也改採視訊會議的方式來開會，以減少員工在交通往返上所花費的金錢與產生的汙染。上述做法的目的是為了符合下列哪一種概念？〔99.第二次基測修訂〕

(A)跨國企業的結合 (B)交通技術的革新 (C)網際網路的應用 (D)環境永續的推動。

答案：(D)

解析：可再生使用、減少資源消耗、減少通勤往返產生的汙染，皆是環境永續的概念。

44. () 公平貿易的理念在各國積極推動，無論是歐洲、美、加、紐、澳、日本、香港，都可以發現致力於落實公平貿易理念的夥伴組織。這類型的組織有助於改善全球化面臨的何項挑戰？ (A)性別平權議題 (B)文化議題 (C)貧富不均議題 (D)環境議題。

答案：(C)

解析：保障開發中國家生產者獲得合理利潤，改善國際間貧富差距現象。

45. () 身為一個世界公民，附表中哪幾位同學表現出來的行為較適當？

小燕	為獲取榮譽，在國際競賽中作弊
小維	參加海外志工團，服務國際社會
小秋	存下零用錢，捐款幫助外國災民
小民	在外國參觀展覽，恣意大聲喧嘩

(A)小燕、小維 (B)小燕、小民 (C)小維、小秋 (D)小秋、小民。

答案：(C)

解析：身為世界公民，小燕應遵守競賽的相關規定，小民應遵守展覽會場的管理規則。

46. () 以下為凱偉的日記，根據內容可知凱偉善盡下列哪項世界公民責任？

2020年4月9日 星期四

今天到社團法人舊鞋救命國際基督關懷協會擔任一日志工。該協會主要的工作項目是募集二手鞋，送至東非，並在當地進行衛教宣導。我協助協會整理別人捐贈的鞋子衣物，心得是除了覺得生長在臺灣的我們非常幸福之外，能夠幫助需要幫助的人是非常快樂的事！

(A)關注國際情勢的變化 (B)以具體行動貢獻自我 (C)落實終身學習的理念 (D)展現合宜的國際禮儀。

答案：(B)

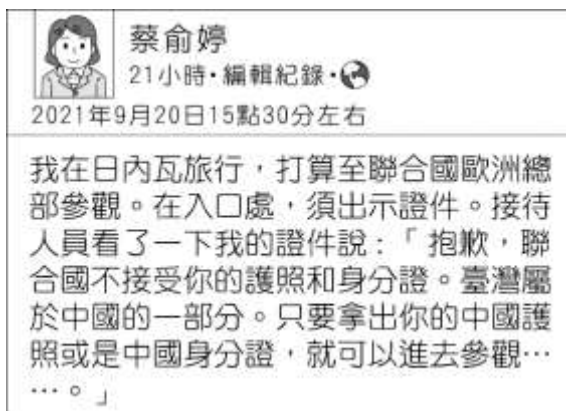
解析：凱偉擔任志工貢獻一己之力。

47. () 下列哪些活動有助於我國國際文化藝術的交流或推展？(甲)「臺北多媒體大展」各大品牌齊聚(乙)我國「大觀舞集」赴新南向3國巡演(丙)7支國際知名合唱團來臺參與「臺北國際合唱音樂節」盛會(丁)百老匯經典音樂劇《美女與野獸》來臺表演 (A)甲乙丙 (B)乙丙丁 (C)甲丙丁 (D)甲乙丁。

答案：(B)

解析：(甲)並無提及與其他國家的互動。

48. () 附圖為俞婷在臉書發表的貼文，引發網友議論。根據圖中內容判斷，下列敘述何者正確？



- (A)臺灣非會員國，不得入內參觀 (B)聯合國接待人員的行為屬於性別歧視 (C)臺灣國際生存空間遭打壓 (D)臺灣與中國的護照相同。

答案：(C)

解析：聯合國接待人員以不接受我國護照，只接受中國護照為由拒絕俞婷進入，代表臺灣國際生存空間遭到打壓。

49. () 麗華收看中華民國國慶典禮的電視轉播，總統在大會演說上針對兩岸關係的談話如附圖。請問：演說內容表現出下列哪一項事實？



- (A)兩岸關係影響我國參與國際社會 (B)避免對立和仇恨才有助兩岸和平穩定 (C)國際情勢影響兩岸的互動交流 (D)中國長期打壓我國加入政府間國際組織。

答案：(B)

解析：演說內容強調，透過平等對話解決分歧，故選(B)。

50. () 佩慈轉貼以下新聞至自己的社群網站上：「YouTuber 阿滴攜手知名設計師聶永真等人，發起集資刊登紐約時報廣告活動。透過廣告圖像強調我國雖長期以來被孤立於國際組織外，但官方及民間正持續以實際行動，對全球提供防疫經驗、實際支援與紓解，『Taiwan can help，這件事沒有人能孤立』。」根據新聞內容，可知佩慈關注我國在下列哪一方面的事務？ (A)兩岸關係的發展 (B)國際組織的參與 (C)國際公約的簽署 (D)國際社會的貢獻。

答案：(D)

解析：Taiwan can help 強調我國可以對國際社會提供協助，故選(A)。

51. () 我國外交部長接受「澳洲廣播公司」節目的專訪，內容擷取如下。請問：此段內容可用下列哪個俗語來描述？

……部長表示，中國從未停止對臺灣的軍事威脅，極力壓縮我國的國際參與空間。近年來愈來愈多理念相近國家關注臺海和平與穩定的重要性，部長也指出，臺灣與澳洲互為重要夥伴，共享民主自由及法治等普世價值，並均支持自由開放、和平穩定且繁榮的印太區域（印度洋—太平洋海域）。臺灣樂見澳洲、美國及英國等國家深化軍事安全合作，以共同捍衛印太區域。

- (A)德不孤，必有鄰 (B)人無遠慮，必有近憂 (C)牽一髮而動全身 (D)三人行必有我師焉。

答案：(A)

解析：我國相信捍衛民主自由理念的國家會共同合作。

52. () 美美在網路上看到下述的訊息。我國無法以「中華民國」名加入聯合國的原因為何？

1971年我國退出聯合國，也被迫退出隸屬於聯合國之下的世界衛生組織(WHO)。1997年開始，我國積極重返WHO和世界衛生大會(WHA)，並嘗試以不同名義爭取參加，足足努力了12年，終於以「中華臺北」的名稱，取得WHA觀察員身分。

- (A)國際條約的束縛 (B)經濟發展實力不足 (C)國家主權不被承認 (D)已加入其他國際組織。

答案：(C)

53. () 政府遷臺後，臺海局勢緊張加劇，1956年後將金門與馬祖畫為戰地政務區，對當地民眾實施各種管制，使得民眾日常生活備受限制。直至1992年才解除戰地政務，並通過金門綜合開發計畫，協助當地重建停滯的經濟活動。按照行政院公布的國土空間發展策略計畫，金門與馬祖是屬於何種階層？ (A)海洋環帶 (B)創新發展軸 (C)生態觀光區 (D)優質生活產業軸。〔一下地理 6-2、公民 3-2〕

答案：(C)

54. () 17世紀臺灣曾被以「大員」一名稱呼，源於當地平埔族人以此稱呼其聚落所在，而被後來進占當地的荷蘭人以為整個島都是「大員」。當時平埔族所在據點最接近附圖中何處？



(A)甲 (B)乙 (C)丙 (D)丁。

答案：(C)

解析：(C)荷蘭人進占臺南一帶。

55. () 附圖為18世紀法國人繪製的臺灣，可以看到臺灣西部與東部出現明顯的繪製差異，其原因最可能為下列何者？



(A)當時繪圖技術不完全 (B)東部河川堆積作用強 (C)對東部地區認識尚淺 (D)涉及清帝國管制機密。

答案：(C)

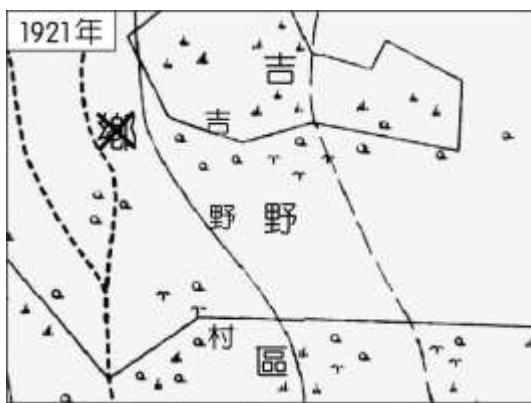
解析：(C)東部地區受地形限制，較晚開發拓墾，因此當時對東部了解較少。

56. () 1683年，清帝國康熙皇帝派遣施琅進軍今日的安平一帶，攻滅南明勢力的東寧王國，並將其正式納入版圖，於是這個島嶼便歸屬於福建省，設立了府治，有了正式的行政區命名。此時的名稱為下列何者？ (A)大員 (B)大灣 (C)東番 (D)臺灣。

答案：(D)

解析：(D)臺灣的正式名稱開始於清帝國時期設立行政區。

57. () 日本人治理臺灣時，對各地區有做詳細的調查並製作地圖，附圖中的地名位在臺灣哪一個行政區？



(A)嘉義 (B)新竹 (C)花蓮 (D)高雄。

答案：(C)

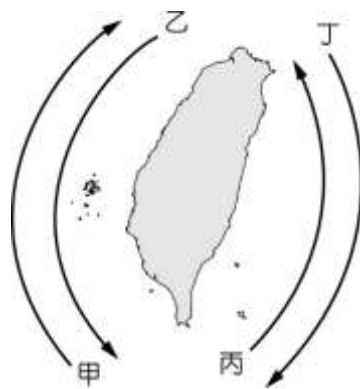
解析：(C)圖中的地名吉野是位在東部的花蓮。

58. () 金門的地名取「固若金湯，雄鎮海門」之意，該名始於明太祖洪武年間「置守禦千戶所，江夏侯周德興築城建垣於此，又因其地位內捍漳廈，外制臺澎……。」由此可以看出金門的戰略位置重要，象徵清帝國政權的重要防線。下列哪一地名的成因與政權無關？ (A)高雄 (B)桃園 (C)吉安 (D)仁愛。

答案：(B)

解析：(B)桃園是因語言文字而調整，由「桃仔園」簡化。

59. () 西方國家早期稱臺灣為「福爾摩沙」，該詞音譯自拉丁文的「Formosa」。傳說在 1542 年，西方水手前往日本的航行途中經過臺灣東岸，映入眼簾的蔥鬱美景，讓他們驚呼、讚歎「Ilha Formosa！」(美麗之島)，因而得名。若依上述說法判斷，當時這些水手的航行路線為何？



(A)甲 (B)乙 (C)丙 (D)丁。

答案：(C)

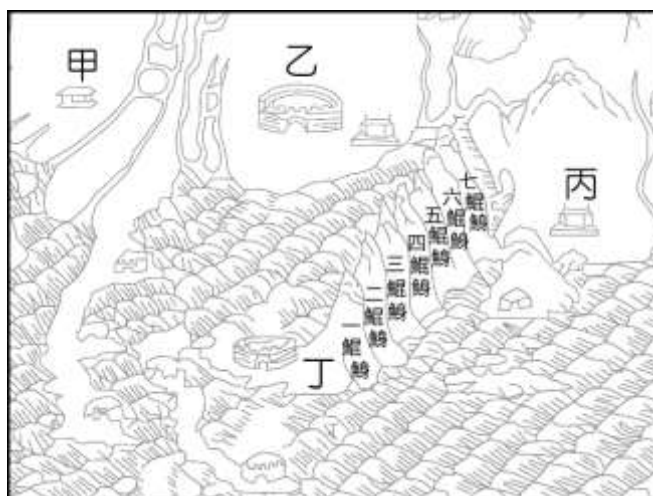
解析：(C)文中敘述當時航行於臺灣東部，且日本位於臺灣北部。

60. () 2022 年的縣、市長選舉活動即將開跑，各黨派的候選人之爭已如火如荼的展開，根據政府行政組織層級的畫分，下列哪一地區不屬於縣、市長選舉的範圍？ (A)高雄市 (B)花蓮市 (C)南投縣 (D)臺中市。

答案：(B)

解析：(B)花蓮市屬於縣轄市，不屬於縣、市長選舉的範圍。

61. () 附圖為臺南地區某時期的古地圖，鯤鯨意指沙洲形狀像魚浮出海面露出背部，一鯤鯨曾因北側鄰近熱蘭遮城及大員市鎮，商業活動頻繁，而被稱為「臺灣第一鎮」。根據以上敘述，附圖中何者應為熱蘭遮城？



(A)甲 (B)乙 (C)丙 (D)丁。

答案：(D)

解析：(D)臺南西部臨海，再依文中所述之相對位置可知，地圖左側為北方，故一鯤鯨北側相鄰的丁即為熱蘭遮城。

62. () 清帝國時期，臺灣一詞作為行政區的名稱，如臺灣縣、臺灣府、臺灣省等，被使用的行政層級愈來愈高，此現象代表的意義為何？ (A)政權更迭頻繁 (B)戰略位置提升 (C)地名慣性沿用 (D)為求交流方便。

答案：(B)

解析：(B)清法戰爭之後，清廷更加重視對臺灣的經營，最終建立臺灣省。

63. () 附圖是阿里史社遷徙簡圖，阿里史冷泉位在圖中何地？



(A)高雄 (B)新北 (C)臺北 (D)宜蘭。

答案：(D)

解析：(D)阿里史冷泉位在宜蘭。

64. () 位於墾丁國家公園內的鵝鑾鼻為著名的觀光景點，突出於海洋之中的岬角風景相當秀麗，吸引大批旅客觀光。若以附圖判斷，該地名的來源最可能為下列何者？



- (A) 卑南族 (B) 排灣族 (C) 阿美族 (D) 布農族。

答案：(B)

解析：(B) 墾丁國家公園位於臺灣南端，因此依其位置判斷應該為當地的排灣族。

65. () 將地名標示於商品上，也是常見的產品命名方式，而臺灣受惠於多樣的自然環境與歷史文化，發展出許多具地方特色的產品。下列地方特色的產品中，何者最廣為人知？ (A) 北投陶瓷 (B) 臺中肉圓 (C) 宜蘭米粉 (D) 萬巒豬腳。

答案：(D)

解析：(A) 鶯歌陶瓷 (B) 彰化肉圓 (C) 新竹米粉。

66. () 先民移民來臺後，為緬懷家鄉常將故鄉地名作為聚落名稱。附圖為小天至屏東縣遊玩時，所看到的道路指引。當地早期移民，最有可能源自中國的哪個行政區？

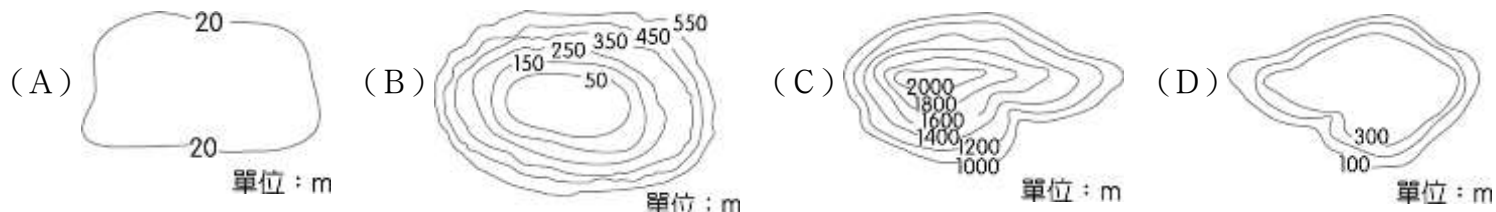


- (A) 福建省 (B) 上海市 (C) 廣東省 (D) 四川省。

答案：(C)

解析：(C) 屏東縣「潮州」地名源自廣東省。

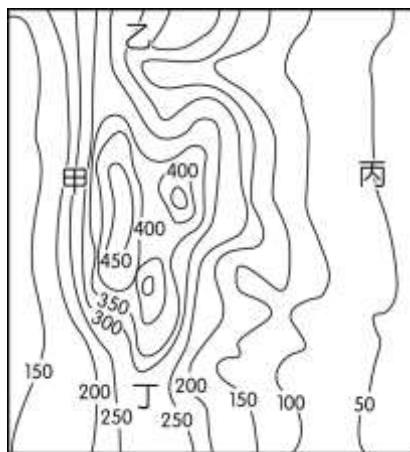
67. () 新北市三重區舊名三重埔，其地名由來與地形有關，該地名與下列哪一張等高線地形圖所呈現的最相符？



答案：(A)

解析：「埔」是指平坦的地方。

68. () 新北市境內的「山佳」，其原名為「山仔腳」，其名稱可以追溯至清代時期的海山堡山仔腳庄。山仔腳地名主要來自於當地的自然環境，在日治時期改「山仔腳」為「山子腳」，國民政府來臺後則改稱「山佳」至今。該類型地名最可能出現於附圖中何處？

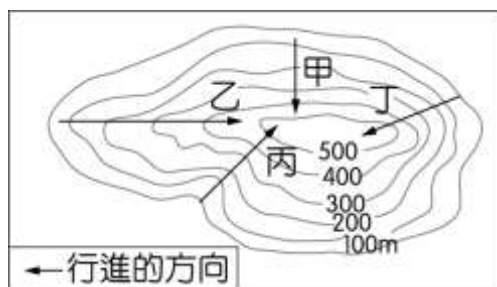


- (A) 甲 (B) 乙 (C) 丙 (D) 丁。

答案：(C)

解析：(C) 山仔腳主要指緊鄰於山腳下的地方，如文中的山佳即因其地緊鄰龜崙嶺山麓而得名。

69. () 治民在某小島做野外調查，希望沿途看到最多與「壩」有關的聚落地名，根據等高線的特徵判斷，他應走附圖中的哪條路線？



- (A)甲 (B)乙 (C)丙 (D)丁。

答案：(C)

解析：(C)丙路線等高線呈V字型，其頂點指向海拔高度較高的地方，代表有河川流經。「壩」指位於水邊之意，故選丙路線為河谷地帶。

70. () 臺灣地形多元複雜，地名中多有用以形容地形的字眼，如附表所示。根據此表將地名由高到低排序，何者正確？

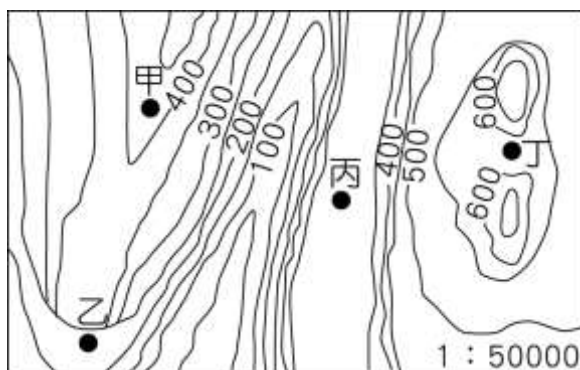
地名	意義
埔	荒野的平地，如頂埔
窩	山凹處的小河谷，如下窩子
嶺	山的最頂端，如嶺頂

- (A)埔→窩→嶺 (B)嶺→埔→窩 (C)窩→嶺→埔 (D)嶺→窩→埔。

答案：(D)

解析：(D)由表可知埔應為平原地形，窩較平原高，嶺為山地地形。

71. () 苗栗縣頭屋鄉舊名「炭頭屋」，「炭」字在客家用語意指陡峭崖坡，炭頭屋意即位於崖下的聚落。根據上述的地名由來，該聚落所在最有可能位於附圖中何處？



- (A)甲 (B)乙 (C)丙 (D)丁。

答案：(B)

解析：等高線地形圖中等高線重合處為懸崖地形，最有可能為聚落所在地。

72. () 近年來，臺灣隨著環保與健康意識抬頭，消費者開始關注有機農業。上述的「有機農業」具有下列哪項特色？

- (A)生產集約度低 (B)投入較高技術 (C)採取機械耕作 (D)避免使用農藥。

答案：(D)

解析：(D)「有機農業」是避免使用農藥及化學肥料的耕作方式。

73. () 雖然基因改造作物的產品有危害人體健康與環境的疑慮，但有些國家還是積極的生產此類作物，這與基因改造作物所具有的優點有關。其所指的「優點」不包括下列何者？ (A)降低作物的生產成本 (B)達成生態系統的平衡 (C)抵禦病蟲害能力較佳 (D)大幅提高作物生產量。

答案：(B)

解析：(B)大量使用抗蟲、抗病害基改作物易造成生態失衡。

74. () 新竹平地種植的柿子口味較澀，透過炭烤日晒，讓糖分濃縮，甜味變得更加濃郁。上述的作法，主要是要達到下列何項目的？ (A)降低運輸成本 (B)符合市場需求 (C)增加營養價值 (D)減少環境汙染。

答案：(B)

解析：(B)專業化的生產使得農產品轉向商品化，生產者為了更符合消費者的需求，而進行加工。

75. () 苗栗縣苑裡鎮施行「稻鴨共作」的耕作方式，在稻田中放養一群鴨子，牠們可以吃掉稻田裡的害蟲和雜草，減少使用農藥。另外，鴨糞可作為肥料，並種出品質優良的稻米。根據上述，此種耕作方式屬於下列哪種農業類型？

- (A)休閒農業 (B)有機農業 (C)集約農業 (D)商業化農業。

答案：(B)

解析：(B)不使用農藥和化學肥料的農作物，稱為有機農業。

76. () 為保護瀕臨絕種的石虎，農業部與特生中心推動友善石虎農作，針對石虎經常出沒的農地，採取不使用毒鼠藥、捕獸夾且不放養犬貓等友善行動之農友，即可獲得友善石虎農作標章（如附圖）。目前已推出香蕉、稻米、紅龍果、芭樂、柑橘、鳳梨等石虎標章農作，並在家樂福、無印良品等通路上架。當消費者轉向選擇石虎友善標章的產品，所產生的影響可能為下列何者？



- (A) 消費者投入石虎復育計畫 (B) 農民食用石虎友善農作物 (C) 採石虎友善行動農民漸多 (D) 上架有機蔬果的通路漸多。

答案：(C)

解析：(C) 消費者的選擇會帶動生產者決策，農民會為了獲得認證標章，更注意在生產過程中採取石虎友善行動。

77. () 《食農教育法》通過後，農委會表示未來會協助各級學校及幼兒園透過課程、膳食供應及相關宣導，進行食農教育的學習體驗和實作活動。上述政策的施行可能產生何種影響？ (A) 從小養成不挑食的習慣 (B) 降低進口農產品的打擊 (C) 強化與在地農業的連結 (D) 豐富學生們的學習歷程。

答案：(C)

解析：(C) 透過從小深化國民臺灣農業與飲食的理解，有助於建立地產地消的觀念，在生活中實踐。

78. () 高雄在地食品廠收購高雄、臺南兩家酪農戶冬天過剩的生乳，將剩乳做成經濟價值更高的乳製品，如鮮奶油、起司粉等，達到零剩餘且全利用的目標。臺灣對於奶油進口量逐年增高，2022年更創下歷年新高，進口量高達1.8萬公噸。根據上述，剩乳再利用的模式可能帶來哪些影響？

(甲)	(乙)	(丙)	(丁)
解決夏天過剩的生乳	延長生乳的食用期限與價值	導致國內乳製品市場價格失衡	降低對國外乳製品的進口依賴

- (A) 甲丁 (B) 乙丙 (C) 乙丁 (D) 丙丁。

答案：(C)

解析：(甲) 應為冬天的生乳過剩；(丙) 使國內乳製品供應穩定，不易受到國際供需情形影響價格。

79. () 全球各地的生鮮食材，在臺灣幾乎都可購買到。如上午在日本現捉的帝王蟹，臺灣的饕客在下午就可享受到，上述的情況與下列哪項因素關係最密切？ (A) 國際貿易發達 (B) 國民所得提高 (C) 運輸工具的革新 (D) 加入世界貿易組織。

答案：(C)

解析：(C) 國外新鮮的帝王蟹以空運送達到臺灣，縮短運輸時間。

80. () 近期風靡小學生的中國製零食魔芋爽，儘管政府禁止進口，夜市仍流通非法版本，包裝上未有繁體中文的營養與成分標示。根據上文敘述，自夜市購買非法魔芋爽可能面臨的風險不包括下列何者？ (A) 食用過多的食品添加物 (B) 運送過程中是否受汙染 (C) 無法得知產品保存期限 (D) 賣家高於市價售出產品。

答案：(D)

解析：(D) 業者非法進口，省去大量成本，能以更低價在市面大量流通，一旦引發食安問題難以找人究責。