

# 西苑高中 110 學年度第 2 學期國中部二年級社會科補考題庫

## 【歷史科題庫】

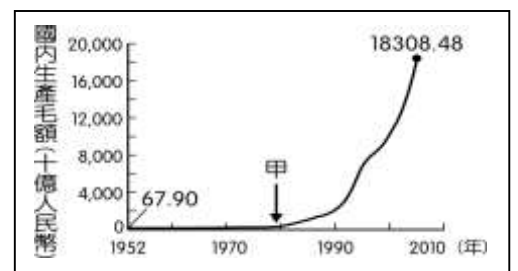
- (C) 以下是一位旅行者到訪上海後的見聞：「此區工廠地帶可以看到日本戰機轟炸的痕跡，但是如果來到租界區，興盛的商業中心立即映入眼中。在此，歐、美國家的主要銀行林立，國民政府的官方銀行：中央銀行，以及中國銀行、交通銀行等仍然繁忙地繼續營業，處理租界區內的金融交易。」此人最可能是在下列何時參訪上海？ (A) 1830 年代 (B) 1890 年代 (C) 1930 年代 (D) 1990 年代
- (B) 民國初年，某家報社的報導如下：「教育部順應各界呼籲，頒發命令要求首都學務局、各省教育廳、各地高等與師範學校，根據國語統一籌備會函，將新式標點符號頒行全國。」請問：教育部頒布此令的主要目的，最有可能是下列何者？ (A) 能更便利閱讀文言文 (B) 能避免斷句不同造成誤解 (C) 能更有利於推廣印刷術 (D) 能讓就讀小學者增加
- (C) 某項展覽上，展出附圖的歷史圖片。請問：此項展覽的主題，最有可能是下列何者？  
 (A) 國共內戰的反思  
 (B) 太平洋戰爭的展開  
 (C) 抗戰期間人民的苦難  
 (D) 軍閥統治下的顛沛流離



- (C) 現居臺中的張爺爺，年輕時在上海是位理髮師。他回憶：「局勢動盪後，理一次髮原本是 55 元，不到一個月理髮價已是 550 元，再隔一個月，必須收費 1,260 元，才能維持基本生計。」請問：張爺爺年輕時所遇到的情況是？  
 (A) 民國創立初期貨幣混亂 (B) 北伐時期貨幣貶值 (C) 國共內戰激化導致通膨 (D) 美國斷交貨幣貶值
- (C) 附表為某一時期官方所頒行機關學校放假日期的部分內容，根據內容判斷，此一日期最可能由下列何者所頒行？  
 (A) 1895 年的清廷  
 (B) 1912 年的北京臨時政府  
 (C) 1929 年的南京國民政府  
 (D) 1945 年的臺灣總督府

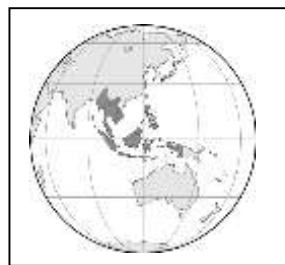
放假日期	放假事由及天數
1/1	中華民國開國紀念，放假一天
1/2-1/3	新年，放假二天
3/12	孫中山逝世紀念，放假一天
3/29	黃花岡七十二烈士殉國紀念，放假一天
10/10	中華民國國慶紀念，放假一天
11/12	孫中山誕辰紀念，放假一天

- (B) 清末國勢不振，袁世凱因能力出眾而得到編練新式軍隊的機會，進而掌握軍事權力後崛起，陸續擔任民國的臨時大總統、正式大總統。請問：袁世凱成為臨時大總統與其掌握軍事權力有何關係？ (A) 袁世凱利用武力推翻中華帝國 (B) 袁世凱利用武力逼迫溥儀退位 (C) 袁世凱利用武力逼孫中山讓位 (D) 袁世凱利用武力護衛革命活動
- (C) 某書提及：「清廷想收回民間集資興建鐵路的權利，所以針對民間已投資者提出補償：在湖南、湖北，投資金額全數償還；在廣東，僅償還 60%，其餘 40% 由政府股票支付；在四川，政府僅發給股票。這種處置引起四川士紳激憤，朝廷為控制騷亂，將部分湖北軍隊調往四川。」上述情況最可能為下列何者的發生提供了機會？ (A) 自強運動 (B) 戊戌政變 (C) 武昌起事 (D) 義和團事變
- (B) 阿芳到中國陝西一帶旅遊，途中看到一個紀念碑，上面記載著關於中共紅軍突破國軍包圍後的「二萬五千里長征」。請問：「二萬五千里長征」的歷史背景，應該是下列何者？ (A) 蔣中正誓師北伐，完成統一 (B) 國民政府五次圍剿中共 (C) 日本進占東北地區，紅軍向西南方撤退 (D) 張學良希望國內一致抗日，因此發動兵諫
- (A) 民國初年，在日本以「帝國政府將執行必要之手段」脅迫下，政府同意日本所提出的「二十一條要求」大部分條款，消息傳出，舉國震怒。上述事件被稱為何？ (A) 五九國恥 (B) 靖康之恥 (C) 義和團事件 (D) 五四運動
- (D) 附圖呈現中國 1952 年至 2005 年國內生產毛額的數據資料。圖中曲線從甲處後有明顯變動的情況，最可能與下列何者有關？



- (A) 利用韓戰爆發契機，提高進口關稅
- (B) 大躍進提倡生產，民眾盡全力煉鋼
- (C) 發動文化大革命，進行全面的改造
- (D) 實施改革開放政策，引進外來資金
- (B) 北伐完成後，國民政府宣布正式進入「以黨治國」的訓政時期。請問：這裡的黨是指下列何者？ (A) 中國共產黨 (B) 中國國民黨 (C) 民主進步黨 (D) 同盟會
- (D) 某則資料提及：「這年秋天，毛澤東在天安門檢閱紅衛兵達到 8 次之多，……總共接見了約一千兩百萬人。」請問：上述現象應是發生於下列哪一個時期？ (A) 軍閥統治 (B) 聯俄容共 (C) 十年建設 (D) 文化大革命

13. (B) 張學良在其接受哥倫比亞大學口述歷史訪談時表示，對於日本「軍國主義至今仍無法原諒」。請問：張學良之所以發起西安事變，是因為他與蔣中正兩人對何事看法不同？ (A)聯俄容共 (B)安內攘外 (C)速戰速決 (D)以華制華
14. (D) 1926年，昭和天皇即位後，日本面臨國內外財經危機，社會情勢不穩，導致某勢力抬頭，該勢力影響下軍人地位崇高，且成人會支持與刻意教育兒童進行軍事操練。文中某勢力所信仰的應是下列哪一概念？ (A)資本主義 (B)共產主義 (C)民族自決 (D)軍國主義
15. (C) 靜怡在書中看到一段話：「民國20年，日軍自行炸毀瀋陽附近的一段鐵路，然後藉口是中國軍隊所為，立即發兵進占東北。由此可知日本對中國的侵略野心。」以上的內容，敘述的應該是下列哪一事件的發生經過？ (A)牡丹社事件 (B)西安事變 (C)九一八事變 (D)滿洲國成立
16. (A) 新文化運動時期，魯迅、周作人和其他知識分子主張將□□視為一個完整個體，尊重其自由意志和自由，將他們視為一個完整的人，保障應有的各種權利。在這個階段，專門為了□□創辦的刊物、文章也開始出現，也出現各種針對□□新興研究。請問：上文中缺空處應填入下列何者？ (A)兒童 (B)師長 (C)男性 (D)奴隸
17. (D) 1952年6月，某國艦隊司令來臺後，在會議中致詞：「目前本艦隊雖在韓國負有作戰任務，好在距離不遠，如能預知匪犯臺灣之行動，至少兩日即可趕來協助。」請問：這位艦隊司令最有可能來自下列哪一國家？ (A)英國 (B)日本 (C)韓國 (D)美國
18. (B) 毛澤東執政時，喊出經濟上「超英趕美」的口號，在外交上逐漸則想擺脫下列哪個國家的約束呢？ (A)美國 (B)蘇聯 (C)英國 (D)法國
19. (D) 清末，朝野人士面對外力的衝擊，提出不少意見。一日，小周在路上看到一張標語寫著：「驅逐韃虜，恢復中華，創建民國，平均地權。」請問：張貼此標語的應為下列何派人士？ (A)立憲派 (B)守舊派 (C)投降派 (D)革命派
20. (C) 每年10月1日是中共的重要節日，公務機關都不上班，民眾亦安排出外旅遊。請問：這個節日是為紀念下列哪一件事？ (A)毛澤東生日 (B)毛澤東逝世 (C)中華人民共和國成立 (D)中國共產黨創立
21. (C) 民國20年9月18日，日本指責中國破壞瀋陽附近鐵路，並在報紙上大肆宣傳，營造責任歸屬為中國方，並企圖合理化自己的行為。請問：上述日本想要合理化的是下列哪一個行動？ (A)西安事變 (B)進攻上海 (C)入侵中國東北 (D)成立滿洲國
22. (C) 「國民政府宣布將遷都□□，以西南各省做為抗戰大後方，並利用中國廣土眾民的條件，制定長期抗戰方針。」請問：□□是指哪一個都市？ (A)南京 (B)成都 (C)重慶 (D)北平
23. (B) 汪老師在課堂上展示了一張示意圖，請判斷汪老師上課的內容，應與下列哪個國際組織有關？  
(A)世界貿易組織  
(B)東南亞國家協會  
(C)亞太經濟合作理事會  
(D)亞洲基礎設施投資銀行



24. (C) 某人認為「中國文字，既難傳載新事新理，且為腐毒思想之巢窟，廢之誠不足惜。……當此過渡時期，唯有先廢漢字，且存漢語，而改用羅馬字母書之。」請問：這段言論，最有可能出現於下列哪一時代的中國呢？ (A)1810年代 (B)1860年代 (C)1910年代 (D)1960年代
25. (D) 1912年為中華民國元年，從民國元年到中日戰爭爆發這段時間，中國面臨許多內政上的挑戰。請問：下列何者不是挑戰之一？ (A)外國勢力進入中國 (B)共產勢力控制政府 (C)軍閥割據 (D)戰敗割地賠款
26. (D) 王同學準備段考複習時，針對國共關係演變整理如下表。但有些欄位無法確認，請幫她填入正確答案，以利衝刺段考。
- | 時間         | 國民黨說法 | 中共說法    |
|------------|-------|---------|
| 1923~1927年 | 聯俄容共  | 第一次國共合作 |
| 1927~1937年 | 剿匪    | 第一次國共內戰 |
| 1937~1945年 | 甲     | 第二次國共合作 |
| 1945~1949年 | 動員戡亂  | 乙       |

### 【公民科題庫】

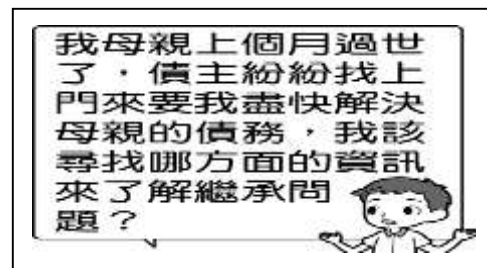
- 1.(D) 下列關於附圖中的少年事件，何者敘述正確？  
(A)遵循《社會秩序維護法》規定  
(B)少年所受到的處置為刑罰的一種  
(C)由檢察官起訴  
(D)屬於少年保護事件



2.(D) 新聞報導：「汶萊是東南亞第一個實施穆斯林教法的國家，2019年4月起將實施嚴刑峻法，規定同性戀、通姦罪犯會以石刑處死，竊盜罪也面臨斷肢酷刑，且行刑過程由穆斯林群眾共同見證。」從上文畫線處判斷，汶萊的嚴刑峻法最想達到的刑罰效果為下列何者？ (A)懲罰犯罪者 (B)教育犯罪者 (C)懲罰一般民眾 (D)警告一般民眾

3.(B) 針對附圖中提出的問題，下列哪一位朋友的回應是正確的？

- (A)阿昌：就法律上來說，這些債主是令堂的債務人
- (B)阿康：繼承屬於《民法》身分上的權利義務關係
- (C)阿茶：借錢不算契約關係，你不用擔心這些問題
- (D)阿彩：私人之間借貸，不屬於法律規範的範圍



4.(B) 一對夫妻正在聊天，如附圖所示。他們談論的主題與下列何者最相關？

- (A)檢察官的審判
- (B)警察的職權
- (C)報案的流程
- (D)刑罰目的與種類



5.(D) 下列是四位同學在討論關於「救濟途徑」的對話，哪些人的觀念正確？

小奇：刑事案件若是由檢察官所提起的訴訟稱為公訴。  
阿軒：人民只要不服行政機關的處分，就可以直接到法院提出行政訴訟。  
小美：被害人委任律師向地方法院提起訴訟，此舉稱為「告訴」。  
阿茂：當私人間發生權利義務糾紛時，人民可提起民事訴訟

- (A)阿軒、阿茂 (B)阿軒、小美 (C)小奇、小美 (D)小奇、阿茂

6.(D) 瑞君與朋友在網路上閒聊，兩人的談論內容應與《刑法》的何種精神最相關？

- (A)禁止權利濫用
- (B)誠實信用原則
- (C)契約自由原則
- (D)罪刑法定原則

瑞君：這個藝人做出這樣的行為，真的很糟糕。  
依茗：對啊！不過在我國，這樣的行為不算犯罪，所以不會受到國家的處罰。

7.(C) 下列關於調解的敘述，何者正確？ (A)調解是由各地區警察局受理 (B)調解委員必須具備法官的資格 (C)侵權行為引發的糾紛，可以透過調解來解決 (D)調解與私下和解的效力，均與法院判決相同

8.(C) 三名16歲的高中生相約至飯店舉辦生日聚會，一時興起，砸毀房內液晶電視、飲水機等設備。請問：這三名高中生將會受到什麼處置？ (A)屬無責任能力人，不須負擔刑罰 (B)屬完全責任能力人，須接受《刑法》制裁 (C)屬限制責任能力人，得減輕處罰 (D)毀損物品並不觸犯《刑法》，因此無須受罰

9.(C) 行政機關做出各種行政處分時，必須遵守行政法規的相關規定。人民若是違反行政法規，將會受到行政機關的制裁，並負起何種責任？ (A)民事責任 (B)刑事責任 (C)行政責任 (D)道義責任

10.(C) 阿香是一位高一學生，下列她的哪一項行為，需要父母親的同意，在法律上才具有效力？ (A)領取學校所發的獎學金 (B)使用零用錢去看電影 (C)和同班同學結婚 (D)搭乘捷運到淡水玩

11.(B) 下列哪一件糾紛只能用訴訟的方式尋求救濟？ (A)施先生當眾用言語羞辱施太太 (B)陳先生開車超速撞死路人 (C)王小妹騎腳踏車撞壞張爺爺家的大門 (D)吳小弟打棒球時不小心打破劉阿姨家的窗戶

12.(D) 依照《兒童及少年福利與權益保障法》規定，父母、監護人對兒少應負保護的責任，若是父母、監護人未善盡職責，可能會受到什麼處罰？(甲)罰鍰(乙)沒收(丙)親職教育輔導(丁)褫奪公權 (A)甲乙 (B)乙丙 (C)甲丁 (D)甲丙

13.(D) 根據附圖情境，下列敘述何者正確？

- (A)行政機關必要時可違反法律以保障人民權利
- (B)行政法規的目的在於限制人民權利的行使
- (C)行政法規只約束人民，不約束行政機關
- (D)行政機關執行公權力必須依據法律



14.(A) 附圖情境中，房東依法可以採取何種方式來保障自己的權益？

- (A) 要求房客將房間回復原狀
- (B) 強制扣留房客的財物抵償
- (C) 要求房客加付十倍的房租
- (D) 迫使房客延長租約的時間



15.(D) 現今跨國婚姻十分普遍，各國對締結婚姻的法律並未完全相同，下列何人應是與臺灣人結婚？ (A) 莎拉：只要兩人同意成為配偶，口頭上互相承諾，婚姻關係即算確認 (B) 約翰：除了公開的儀式之外，還必須徵求雙方父母同意才算正式成立 (C) 安琪：先經過訂婚、公開宴客，並在親友的見證下，雙方關係才確立 (D) 彼特：採書面方式，至少要有兩位證人簽名，雙方還必須親自去戶政機關登記

16.(C) 15 歲的俊憲和同學打賭輸了，輸的人必須到夜市偷一件 T 恤，所以他帶 14 歲的表弟幫他把風，打烊後老闆檢查攝影機發現遭竊，因此報警處理，警方循線將他們依竊盜罪移送法辦。根據上述，他們將面對的法律責任，下列敘述何者正確？ (A) 依《刑法》加重處罰 (B) 按法令不受任何制裁 (C) 將交由少年法院(庭) 審理 (D) 由校規代替法律處罰

17.(B) 附表是我國《民法》與《刑法》的比較，其中哪些正確？

- (A) 甲丙
- (B) 甲乙
- (C) 乙丙
- (D) 乙丁

	民法	刑法
(甲) 特色	誠實信用	罪刑法定
(乙) 法律責任	民事責任	刑事責任
(丙) 責任內容	罰金、拘役	損害賠償
(丁) 違反該法行為舉例	積欠卡債 不還	不履行 買賣契約

18.(B) 公民老師為今天的上課內容準備了四張海報，如附圖。

請問：老師介紹的主題應與下列哪一法律有關？

- (A) 《憲法》
- (B) 《民法》
- (C) 《性別工作平等法》
- (D) 《社會秩序維護法》



19.(C) 附圖中兩人討論的現象違反下列哪一項原則？

- (A) 誠實信用原則
- (B) 罪刑法定原則
- (C) 無罪推定原則
- (D) 契約自由原則



20.(A) 碧舜在個人網誌上發文，依照內容所述，對於他行為的界定，下列何者正確？

**動態更新**

我才剛考到駕照，昨天就被警察攔下來說我違反《道路交通管理處罰條例》，並訓斥我騎車超速很危險，還開了一張罰單給我。這樣我算不算犯罪？

- (A) 只有違法，沒有犯罪
- (B) 只有犯罪，沒有違法
- (C) 並不違法，也不屬於犯罪
- (D) 不僅違法，而且屬於犯罪

21.(C) 陳小姐收到國稅局要求補稅的通知，她認為自己報稅時都依照法律的規定計算，覺得自己的權益受損，想要依循法律途徑爭取自己的權益。請問：在提起訴訟之前，陳小姐必須先經過何種程序？ (A) 請願 (B) 陳情 (C) 訴願 (D) 協調

22.(D) 新聞報導：「某鄉公所爆發集體貪汙事件，兩年來收受賄款數千萬元，經司法單位調查後，多名官員被以貪汙罪名移送法辦。」請問：官員涉貪的行為將以法律明文規定的處罰方式為之，這是何種精神的內涵？ (A) 禁止權利濫用 (B) 誠實信用原則 (C) 契約自由原則 (D) 罪刑法定原則

23.(C) 我們如果碰到權益受損較輕微的民事案件，為節省資源、時間，應採取何種方式進行救濟？ (A) 委任律師提起訴訟打官司 (B) 訴諸媒體尋求輿論支持 (C) 透過和解、調解等方式解決 (D) 忍氣吞聲、自認倒楣

24.(B) 一名 18 歲女子在大街上攻擊路人，造成多人受傷，但被法院認定不以刑罰處罰。依《刑法》負擔刑罰的資格與能力判斷，她最可能屬於下列何者？ (A) 無行為能力人 (B) 無責任能力人 (C) 完全行為能力人 (D) 完全責任能力人

25.(C) 下列關於行政罰的說明，何項敘述較為正確？ (A) 是立法機關對違規者做的裁罰 (B) 只有一般民眾才會受到行政罰 (C) 行政罰是行政處分的一種方式 (D) 拘役和罰金皆屬於行政罰方式

26.(B) 附圖中，舅媽的行為具有法律效力的原因為何？

- (A) 購買貼圖金額不大，因此具有法律效力
- (B) 舅媽為未成年人已依法結婚者，所以行為具有法律效力
- (C) 外甥為無行為能力人，因此若由舅媽代替其購買，具有法律效力
- (D) 舅媽的行為在其法定代理人同意後，具有法律效力。



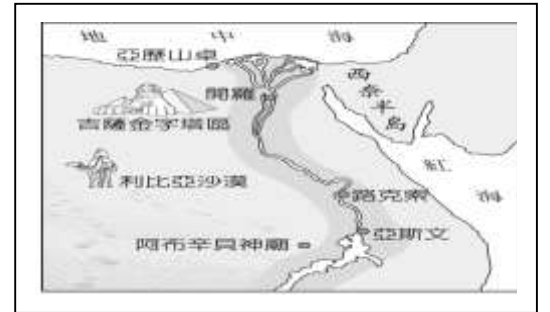
【地理科題庫】

1.(D) 何者不是日本、南韓皆具有的經濟發展特色？ (A)原料多需仰賴進口 (B)產品多以外銷世界為主 (C)出口汽車、高科技產品等高單價物品為主 (D)實施共產主義，由國家的力量控制經濟發展

2.(D) 王先生和夫人參加古文明之旅，搭乘豪華郵輪一探世界大河文化的遺跡。

附圖為這趟行程的路線圖，請由圖中資料判斷，該大河文明應該位於下列哪一河川？

- (A) 黃河
- (B) 印度河
- (C) 底格里斯河
- (D) 尼羅河

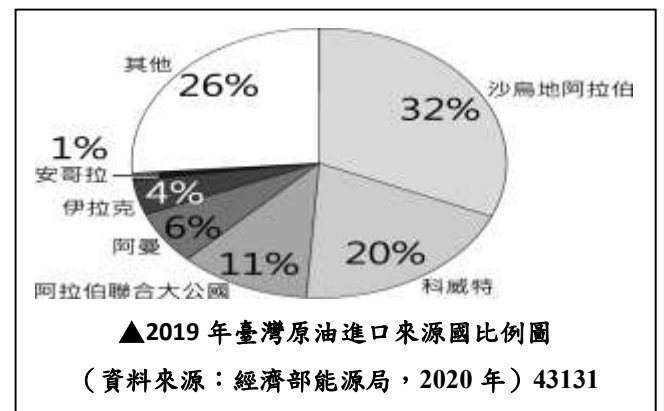


3.(C) 非洲因為開發的時間較晚，而曾有「黑暗大陸」之稱。事實上該地區在古代曾有偉大的大河文明出現，為當地帶來了進步的農業活動，並留有金字塔等人類遺跡。請問：上文中所指的非洲古文明分布於現在哪一個國家境內？

- (A) 肯亞 (B) 南非 (C) 埃及 (D) 衣索比亞

4.(C) 附圖為 2019 年臺灣原油進口來源國比例圖。請問：在臺灣原油主要進口國中會見到下述哪項景觀？

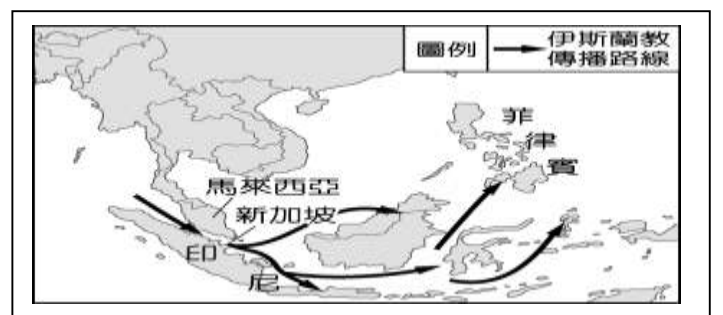
- (A) 氣候炎熱多雨，雨林廣布
- (B) 受盛行西風影響，夏雨冬乾
- (C) 氣候乾燥，居民傳統衣著寬鬆
- (D) 尼羅河三角洲為人口聚集之處



5.(B) 新加坡面積狹小，但經濟發展卻十分優異。請問：該國主要的經濟活動為下列何者？ (A)熱帶栽培業 (B)轉口貿易 (C)鋼鐵工業 (D)石油開採

6.(D) 13 世紀時，阿拉伯人藉由商業往來傳播伊斯蘭教，附圖為伊斯蘭教在東南亞的傳播路線。請問：由附圖可知，伊斯蘭教最早由哪一海域傳入，成為現今東南亞的主要宗教之一？

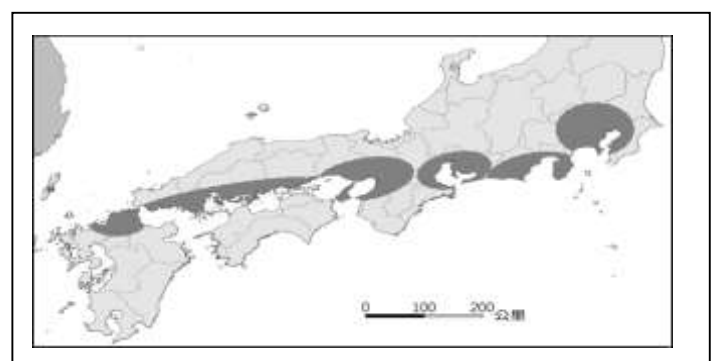
- (A) 大西洋
- (B) 太平洋
- (C) 南海
- (D) 印度洋



7.(A) 東協國家近年的經濟發展相當迅速。請問：東協國家發展工業的優勢為何？甲、便宜的勞動力；乙、豐富的資源；丙、完善的交通；丁、高科技技術 (A)甲乙 (B)乙丙 (C)丙丁 (D)甲丁

8.(C) 附圖是日本主要工業區示意圖。請問：這些工業區的分布位置和下列何者的關係最大？

- (A) 位在環太平洋地震帶
- (B) 山多田少
- (C) 出口貿易
- (D) 寒暖流交會

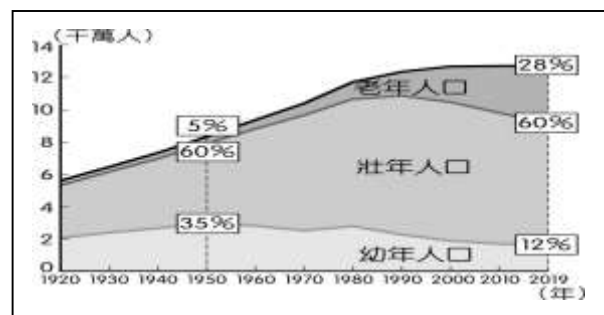


9.(D) 人地關係出現問題時，容易形成環境問題。哪一種氣候區的土地過度開發利用時，最可能出現土壤鹽鹼化的現象？ (A)溼潤氣候 (B)寒帶氣候 (C)高地氣候 (D)乾燥氣候



10.(D) 附圖是日本人口結構統計圖，由日本人口特色來看，下列哪一種創新產業會越來越夯，需求量日增？

- (A) 動漫產業
- (B) 大金冷氣
- (C) 太陽能產業
- (D) 外骨骼輔具



11.(C) 東南亞各國的經濟增長相當快速，自 1967 年當地的東南亞國協成立以來，各國平均的 GDP 增長率約為每年 8~11%，成為重要的新興市場，也吸引了許多外資進入。此現象與當地具備哪些發展條件關係最大？(甲)人口眾多 (乙)技術進步(丙)資源豐富(丁)資金雄厚 (A)(甲)(乙) (B)(丙)(丁) (C)(甲)(丙) (D)(乙)(丁)

12.(A) 埃及境內的帶狀綠洲及沿海三角洲孕育出雄偉的古文明，這些地帶的形成和下列何者關係最大？ (A)河川沖積 (B)海水堆積 (C)土石崩落 (D)火山活動

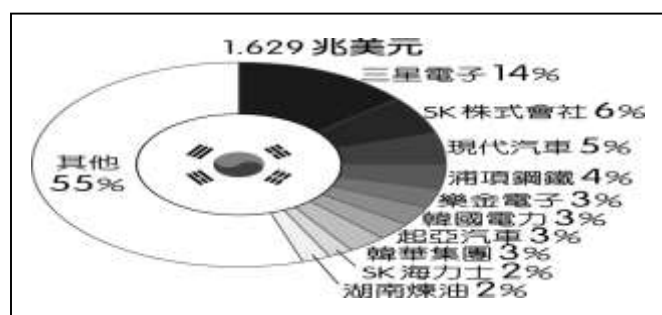
13.(C) 印度寶萊塢電影近年來在臺灣的票房以「救救菜英文」的票房最佳，從電影中可以看到印度當地因為通行英文，因此促成了何種產業活動的發展？ (A)汽車工業 (B)紡織工業 (C)軟體工業 (D)石化工業

14.(A) 朝鮮半島南部年可二穫，而北部僅年可一穫，最主要的影響因素為何？ (A)緯度高低 (B)降水量多寡 (C)洋流性質 (D)土壤種類

15.(B) 好寶寶玩具製造公司計畫於今年底到國外設廠製造，在不考慮勞力品質的條件下，下列哪一個國家的勞力資源最為充沛？ (A)英國 (B)印度 (C)澳洲 (D)日本

16.(C) 附圖是 2019 年南韓前十大企業營收占南韓 GDP 比例圖，由圖中資訊判斷，南韓企業有何特色？

- (A) 中小企業居多
- (B) 個人創業盛行
- (C) 多為大型財團
- (D) 實施共產制度



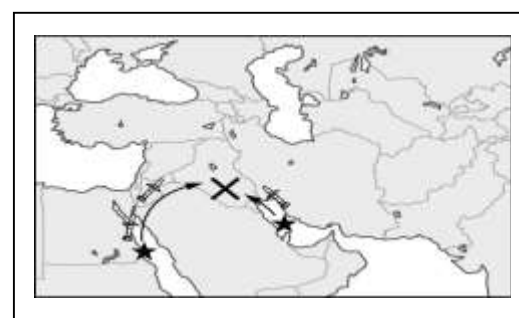
17.(D) 「傳統的游牧生活鍛鍊他們堅毅的性格，禁食豬肉及喝酒戒律讓他們更加自律，作為伊斯蘭教的信徒，宗教戒律是唯一的生活規範。」請問：上文所敘述的是哪一個地區居民的生活特徵？ (A)東亞 (B)北亞 (C)南亞 (D)西亞

18.(A) 北韓目前因為下列何種因素的影響，以重工業及軍事工業為發展重點？ (A)政治制度 (B)出口貿易 (C)技術進步 (D)勞工眾多

19.(B) 氣候的形成因素通常受到該地區的地理位置及自然環境條件的影響，其中位於南亞的印度半島，主要的氣候類型為熱帶季風氣候。請問：下列有關該地區的區域特色中，何者和熱帶季風氣候的關係最小？ (A)位於低緯地區 (B)世界最高山脈 (C)乾溼季節分明 (D)海陸交會位置

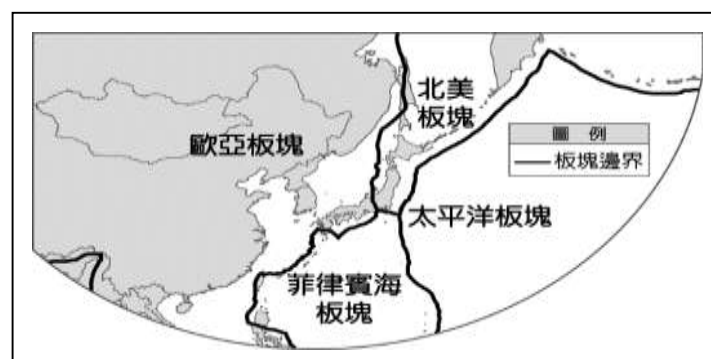
20.(D) 20 世紀末期的伊拉克戰爭，以美國為首的聯軍利用各種先進武器，發射導彈摧毀伊拉克的軍事設備及地面部隊後。由附圖可知，★處的美國海軍艦隊主要由下列哪兩個海域發射導彈？

- (A) 地中海、大西洋
- (B) 印度洋、阿拉伯海
- (C) 波斯灣、地中海
- (D) 紅海、波斯灣



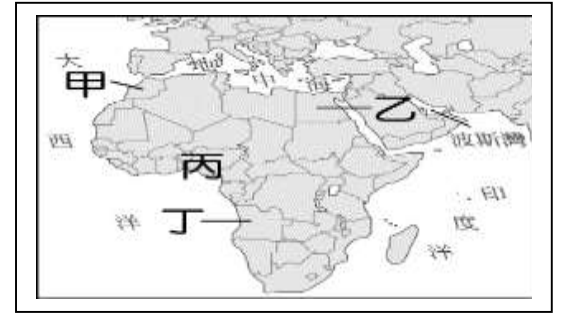
21.(C) 附圖為東北亞板塊分布圖，下列哪一個國家位在圖中歐亞、北美、太平洋、菲律賓海板塊交會處，地震頻繁，甚至容易引起海嘯等災害？

- (A) 南韓
- (B) 北韓
- (C) 日本
- (D) 蒙古



22.(A) 摩洛哥在 2020 年通過了相關法律，將西撒哈拉的海域納入其海上的領土，讓這個衝突以久的區域再增添變數。若聯合國欲派遣專員前往當地進行了解，則其目的地應該為下列何者？

- (A) 甲
- (B) 乙
- (C) 丙
- (D) 丁



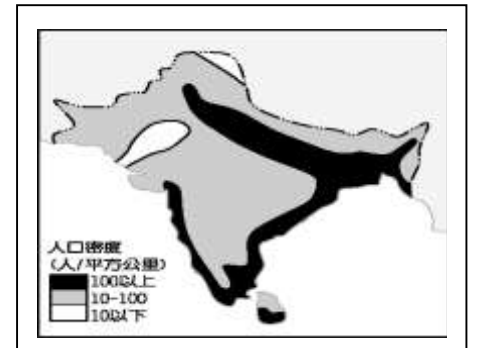
23.(D) 巴基斯坦位於印度半島的西北部，和印度之間因為宗教等諸多因素而紛爭不斷。請問：巴基斯坦的宗教信仰主要為下列何者？ (A) 佛教 (B) 印度教 (C) 基督教 (D) 伊斯蘭教

24.(C) 在全球化趨勢下，日本的經濟發展正面臨其他國家競爭。請問：該國目前的工業發展方向主要為下列何者？ (A) 高勞力工業 (B) 低成本工業 (C) 高附加價值工業 (D) 原物料開採工業

25.(A) 東協十國的宗教信仰多元複雜，除了國際貿易帶來不同的宗教外，也與曾受到西方列強的殖民統治有關，至今殖民歷史仍然影響當地發展。請問：下列哪項東南亞特色與殖民歷史最無關？ (A) 大量人民到海外提供勞務 (B) 具有天主教信仰及英語等文化 (C) 大都市多為鄰近港口的港埠型都市 (D) 發展大規模的熱帶栽培業，種植油棕、橡膠等經濟作物

26.(A) 印度為世界上人口第二多的國家，因此經濟發展深受影響。附圖為印度半島主要的人口分布概況。請問：各地區的人口密度多寡和下列哪一個因素的關係最大？

- (A) 環境負載力高低
- (B) 交通易達性高低
- (C) 開發時間早晚
- (D) 宗教信仰種類



27.(A) 從印尼漂到菲律賓的無動力工作平臺船，擱淺在當地東部海域上，造成環境污染。入秋後持續性的強風不斷增強，更令當地居民擔心污染海域繼續擴大。請問：此時的強風可能為下列何者？ (A) 東北季風 (B) 西南季風 (C) 颱風 (D) 龍捲風