

110學年度上學期西苑高中國中部二年級社會科補考題庫

一、單一選擇題

1. ()賦稅是國家施政最重要的依靠，秦代為了能有效率的向人民徵稅，政府實施許多的手段。請問：下列何者不是其手段之一？ (A)施行封建制度 (B)將人民編入戶籍 (C)嚴懲私自脫離本籍的人 (D)頒布法律管理。

答案：(A)

解析：為了提高徵收田賦的效率，秦代政府將人民編入戶籍，並頒布法律管理，嚴懲私自脫離本籍的人。

2. ()地理大發現後，(甲)歐洲人發現通往亞洲的新航路，(乙)他們帶著美洲發現的白銀，透過亞洲殖民據點的轉運，(丙)大量購買中國的獸皮、香料等物品，白銀也因此大量輸入中國，(丁)形成銀銅雙本位制度。請問：上述畫線部分何者錯誤？ (A)甲 (B)乙 (C)丙 (D)丁。

答案：(C)

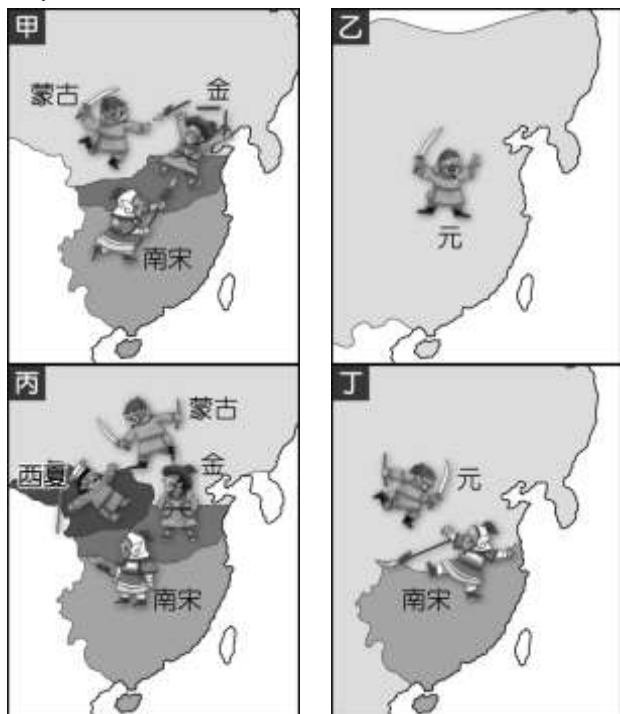
解析：歐洲人戴著美洲白銀前往亞洲，購買中國的絲綢、瓷器等商品。

3. ()中國古文明是多元並立的，商代是以哪一區域為根據地，建立璀璨的華夏文化？ (A)珠江流域 (B)長江流域 (C)黃河流域 (D)黑龍江流域。

答案：(C)

解析：大約三千多年前，黃河流域一帶先後形成商、周兩個王朝。

4. ()老師在講解宋、西夏、金、元對立形勢演變歷史時，貼了四幅地圖(如附圖)在黑板上，請同學上臺將地圖依時間順序排列。正確的順序應為何？



- (A)甲乙丙丁 (B)甲丁丙乙 (C)乙丁甲丙 (D)丙甲丁乙。

答案：(D)

5. ()清帝國作為少數民族統領中國，必須針對國內多

元民族制定多元統治政策。下列何者為拉攏漢人所實施的策略？ (A)禮遇明代遺臣 (B)實施薙髮留辮 (C)以宗教拉攏 (D)大興文字獄。

答案：(A)

解析：(B)(D)為高壓手段(C)對蒙古、西藏。

6. ()中國流傳的順口溜：「雖然大權不在手，可誰都得跟他走。他讓往東去，你不敢往西扭。他說要騎馬，爸爸忙趴下。半夜想吃冰淇淋，爺爺提起褲子滿街走。」雖然夾帶著幾分戲謔，卻也道盡了今日中國的人口問題。請問：上述順口溜描述了中國哪一人口問題？ (A)人口分布不均 (B)出生率大幅降低 (C)老年人口增加 (D)男女性別比漸高。

答案：(B)

解析：中國由於受一胎化政策影響，因此家中多為獨生子，造成父母寵愛過度而形成小皇帝現象。

7. ()蔣廷黻於《中國近代史大綱》中提及「直到咸豐末年英法聯軍攻入北京，然後少數人覺悟了，知道非學西洋不可。所以我們說，中華民族喪失了二十年的寶貴光陰。」請問：文中所指「喪失了二十年的寶貴光陰」主要是指中國未能記取什麼教訓？ (A)牡丹社事件日軍犯臺 (B)鴉片戰爭的失敗 (C)第一次英法聯軍 (D)列強畫分勢力範圍。

答案：(B)

解析：英法聯軍後，中國才開始自強運動。

8. ()怡如在網路上看到網友分享的投票懶人包圖片，請問：圖中的「投票注意」，是提醒投票人要遵守選舉的哪項原則？



- (A)平等原則 (B)直接原則 (C)普通原則 (D)無記名原則。

答案：(D)

9. ()自強運動興起於西元 1860 年代，對亟欲改革的革新派而言，其實此次改革已經喪失先機了，而且至少延誤了 20 年之久。請問：自強運動的產生是直接受到哪個刺激的驅使？ (A)流寇之亂 (B)鴉片戰爭 (C)英法聯軍 (D)清法戰爭。

答案：(C)

10. ()某政治思想家主張：「政府之正當權力是得自被治理者的同意而產生。」此處所謂的「同意」，通常是指公開且普通的直接選舉過程。下列哪一公職人員的產生，符合上述選舉原則？〔95.第二次基測〕 (A)監察委員 (B)縣(市)議員 (C)行政院院長 (D)省諮議會諮議員。

答案：(B)

解析：(A)由總統提名，經立法院同意後由總統任命(C)由總統直接任命(D)由行政院院長提請總統任命。

11. ()曉明在中國人口統計局的網站上發現，2020年中國0~14歲幼年人口的性別比為111，其所代表的意義為何？(A)幼年人口大幅增加 (B)幼兒出生率不斷提高 (C)未來勞動力相當充足 (D)幼年人口男多於女。

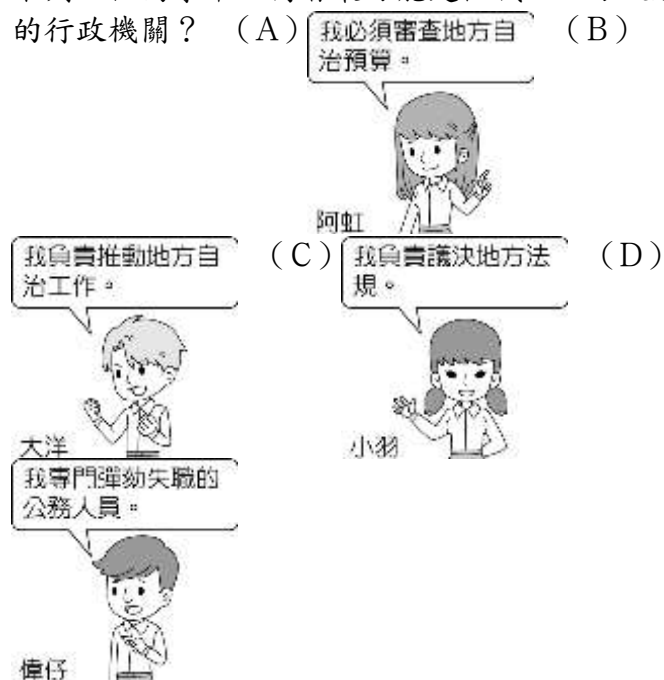
答案：(D)

12. ()清末時出現一批受過新式教育的女子，她們自詡為新時代新女性。下列敘述何者不可能是她們的遭遇？(A)替女兒纏足，以尋求未來嫁入好人家 (B)和朋友上西式餐館吃西餐 (C)到公立女學堂上課 (D)抗拒媒妁之言，選擇自由戀愛。

答案：(A)

解析：(A)「放足」是19世紀清末社會的風氣，受過新式教育的女子較不可能為女兒纏足。

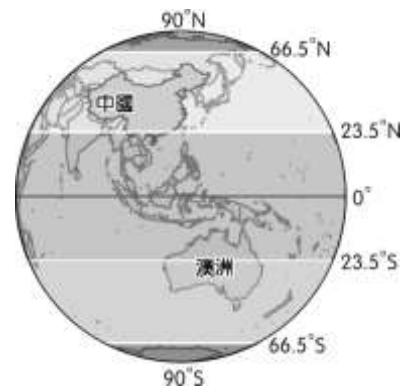
13. ()開同學會時，大家閒聊著自己現在從事的工作，下列四位同學中，何者最可能是任職於地方政府的行政機關？(A)我必須審查地方自治預算。(B)



答案：(B)

解析：(A)(C)地方政府立法機關(D)監察院。

14. ()附圖為中國和澳洲的分布圖，請問：若依圖中資料加以判斷，則下列敘述何者最正確？



- (A)澳洲疆域較中國大 (B)澳洲季節和中國相反 (C)兩國均有赤道通過 (D)兩國均以熱帶氣候區為主。

答案：(B)

解析：圖中可發現中國和澳洲分屬北半球和南半球，因此季節相反。(A)疆域較小(C)回歸線經過(D)中國溫帶氣候所占面積較大。

15. ()富峰收到馬來西亞朋友傳來以下一則訊息，根據內容判斷，下列何者較符合該友人欲表達的想法？

2018年5月的選舉，已執政61年的政黨下臺，我們第一次產生政黨輪替。對許多民眾而言，這顯示了每個人都能用選票決定未來的執政者，得票數將代表他們的問政表現。雖然不知道下一次的當選者是誰，但是由人民當家的感覺真好。

- (A)民眾較難理解複雜的政治事務 (B)違反民意的政府將得不到民心 (C)民主選舉不利於政權和平轉移 (D)政黨利益的重要性大於人民福祉。

答案：(B)

解析：執政者必須盡責為民服務，否則人民會在下一次選舉改投其他人。

16. ()我國各級地方政府針對不同地區人民需求提供服務，根據附圖中的對話內容，這應屬於地方政府的哪一項職權？

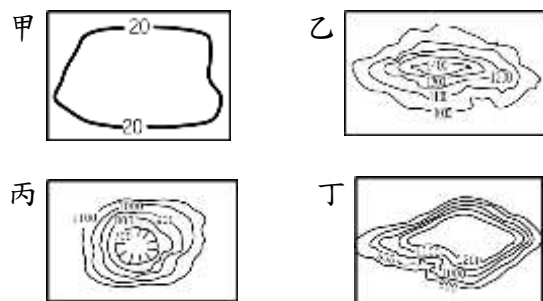


- (A)社會福利 (B)教育文化 (C)經濟發展 (D)安全衛生。

答案：(C)

解析：發展觀光事業為地方政府的經濟發展事務。

17. ()中國境內地形相當多樣化，其中以哪一種地形所占的面積比例最大，因此影響境內的人民生活甚鉅？



- (A)甲 (B)乙 (C)丙 (D)丁。

答案：(B)

18. ()我國中央政府體制為了避免濫用私人與杜絕國會專制的缺陷，將考試權與監察權特別獨立出來。請問：這是採用何人提出的什麼理論？(A)孫中山先生；五權分立 (B)艾克頓爵士；權力分立 (C)孟德斯鳩；三權分立 (D)孫中山先生；權能區分。

答案：(A)

19. ()以下是林家姐妹在火車上的對話——
妹妹：「剛剛的播音服務，使用了國語、閩南語和客家語等語言！」

姐姐：「政府已經立法規定，國內大眾運輸工具應使用多種語言播音，以便利各族群搭乘。」

根據上述內容判斷，政府的作法旨在保障人民的哪一項基本權利？〔97.第二次基測〕(A)平等權 (B)自由權 (C)受益權 (D)參政權。

答案：(A)

解析：《憲法》規定不分種族，在法律上享有同等權利。

20. ()臺灣的奶粉廠商欲從國外進口品質良好的乳品，那麼以下列哪一個國家最為適合？(A)巴西 (B)印度 (C)紐西蘭 (D)南韓。

答案：(C)

解析：紐西蘭的產業活動以畜牧業為主。

21. ()隨著勞工權益提升，中國哪一個生產要素逐漸提高，導致企業成本大幅提升？(A)土地 (B)工資 (C)原料 (D)動力。

答案：(B)

解析：勞工權益提升，基本工資也逐漸提高，導致企業成本大幅提升。

22. ()中國的少數民族藏族，主要分布於青藏高原上，有關於青藏高原的描述，下列何者有誤？(A)地勢高聳 (B)夏季溫度較同緯度其他地區低 (C)氣溫與植被隨高度呈垂直變化 (D)位在中國三大氣候區的乾燥氣候區中。

答案：(D)

23. ()明清時期，中國哪一地區的人們因為人口急速增加，遠渡重洋移居到東南亞或渡海來臺開墾？(A)北方 (B)西南內陸 (C)東南沿海 (D)西北內陸。

答案：(C)

解析：明清時期，中國東南沿海地區因為人口急速增加，部分居民遠渡重洋移居東南亞或渡海來臺開墾。

24. ()假設身為監察委員的大佑，在某段期間看到媒體揭露的四則新聞報導，如附表所示。根據大佑的職權判斷，表中哪一則新聞的報導對象，最可能被他提出彈劾？〔104.會考〕

新聞	報導內容
甲	民調顯示，民眾對於內閣官員的滿意度大幅下滑。
乙	幫派分子製毒，警方破獲史上最大毒品販賣集團。

丙	現任總統疑似洩漏國家機密，影響國家安全。
丁	中央政府部會首長涉嫌官商勾結，從中舞弊。

(A)甲 (B)乙 (C)丙 (D)丁。

答案：(D)

解析：監察委員對於違法或失職的公務人員得行使彈劾權，而總統的彈劾權則屬於立法院。

25. ()如果這星期六是我國總統、副總統的選舉日，則下列哪一個人符合投票資格？

	玲玲	莉莉	元元	偉偉
國籍	中華民國	中華民國	中華民國	中華民國
年齡	43歲	25歲	19歲	20歲
選舉區設籍	8個月	4個月	7個月	6個月
受監護宣告	有	無	無	無

(A)玲玲 (B)莉莉 (C)元元 (D)偉偉。

答案：(D)

解析：(A)受監護宣告無法投票(B)選舉區設籍未滿6個月(C)年齡不符。

26. ()自秦始皇經漢初到漢武帝，中央政府的政治運作受思想家的影響，其思想之轉變依序為下列何者？(A)儒家→法家→道家 (B)法家→道家→儒家 (C)法家→儒家→道家 (D)道家→法家→儒家。

答案：(B)

27. ()守舊派人士發動戊戌政變後，下列何人重新掌握朝政？(A)光緒皇帝 (B)慈禧太后 (C)咸豐皇帝 (D)道光皇帝。

答案：(B)

28. ()目前中國人口數約有14億人，高居世界第一。請問：人口數眾多對中國經濟活動的影響有哪些？(甲)勞工眾多(乙)市場廣大(丙)原料豐富(丁)技術進步 (A)甲乙 (B)丙丁 (C)甲丁 (D)乙丙。

答案：(A)

解析：中國人口眾多可以提供充足的勞力以及形成廣大的消費市場。

29. ()中國東部的地理環境有利於何種產業活動的分布，因此成為人口集中的稠密區？(A)農業 (B)礦業 (C)牧業 (D)林業。

答案：(A)

解析：中國東部地形平坦且氣候溫溼，因此有利於農業發展。

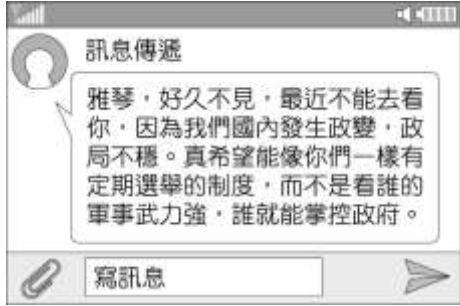
30. ()李先生觀察中國的農牧業活動時，發現其分布特色受到下列哪一個因素的影響最為明顯？(A)地勢高低 (B)氣溫高低 (C)降水量多寡 (D)人口疏密。

答案：(C)

31. () 魏晉南北朝可說是中國歷史上一個分裂的時代，下列敘述何者最能代表這一時代的特色？ (A) 佛教、道教始傳入中國，十分盛行 (B) 法學盛行，法治觀念深入人心 (C) 漢族與草原民族不相往來 (D) 世家大族門第鼎盛。

答案：(D)

32. () 選舉制度在民主國家扮演不可或缺的重要角色，但在獨裁國家則不然。附圖為雅琴收到一位外國朋友的簡訊，此簡訊內容強調下列哪一特性？



- (A) 國家未來的發展性 (B) 政治參與的重要性 (C) 治理國家的正當性 (D) 政策執行的合法性。

答案：(C)

解析：定期選舉能使獲勝者取治理國家的正當性，避免發生如簡訊內容所述，以政變或武力方式獲取政權，造成國家動盪不安。

33. () 建勳正在安排家族旅行，地點預計包括地方行政區三個層級，他向網友徵詢意見。附圖中哪一個網友的建議較為合適？



- (A) 彥君 (B) 筱亭 (C) 威琴 (D) 俊玲。

答案：(C)

解析：(A) 皆為同級 (B) 屏東市、臺東市為同級 (D) 金門縣、嘉義市為同級。

34. () 中國陸地面積廣大，又面臨浩瀚的太平洋，因此形成廣大的季風氣候區。請問：季風氣候因具有下列哪一種特色而得名？ (A) 季節交換風向變化 (B) 季節交換風力變化 (C) 季節交換風速變化 (D) 季節交換降水量變化。

答案：(A)

35. () 中國目前經濟發展的問題為區域發展不均，附圖中哪一個地區受到區位條件的影響，工商業較為落後？



- (A) ① (B) ② (C) ③ (D) ④。

答案：(D)

解析：④號位於中國西部地區，因人口較少，且對外交通不便，因此工商業發展較為緩慢。

36. () 中國境內的各種地形中，高原占地面積廣大，主要有四大高原，其中以下列哪一個高原的海拔高度最高？ (A) 內蒙古高原 (B) 青藏高原 (C) 雲貴高原 (D) 黃土高原。

答案：(B)

37. () 以下是中國某朝代首都的簡介：「這是一座依計畫興建的城市，城中可見基督教教堂、伊斯蘭教清真寺及佛教寺廟。朝廷聘用色目人擔任財政官員，加上各地物資的集中，讓這座城市成為金融經濟中心。」上述城市最可能是指下列何者？〔106.會考修訂〕 (A) 東漢洛陽 (B) 唐代長安 (C) 北宋汴京 (D) 元代大都。

答案：(D)

解析：(D) 元代施行種族政策，讓色目人擔任財政官員。

38. () 熱帶雨林對於世界的環境影響甚大，被稱之為「地球之肺」。請問：該林木主要的分布環境最可能為下列何者？

	甲	乙	丙	丁
年均溫 (°C)	30	28	15	10
年降水量 (mm)	500	2000	1500	800

- (A) 甲 (B) 乙 (C) 丙 (D) 丁。

答案：(B)

解析：熱帶雨林氣候為終年高溫多雨。

39. () 為避免政府獨斷，權力的分立與制衡相當重要。關於附圖中娟柔所提及的制度，其運作過程的說明，下列何者正確？



- (A) 立法院得對總統提出不信任案 (B) 不信任案通過後，總統應提出辭職 (C) 由行政院院長解散立法院 (D) 立法院被動解散後，立法委員須重新選舉。

答案：(D)

解析：(A) 不信任案是向行政院院長提出 (B) 不信任案通過後，行政院院長應提出辭職 (C) 由總統解散立法院。

40. () 新疆盆地及青藏高原同位於中國西部地區，然而氣候類型卻不盡相同。請問：附表中的敘述，何者最為正確？

選項	甲	乙	丙	丁
青藏高原	日溫差大	日溫差大	年溫差小	年溫差大
新疆盆地	日溫差小	日溫差大	年溫差小	年溫差大

(A)甲 (B)乙 (C)丙 (D)丁。

答案：(B)

解析：兩地都位於西部，因此氣候乾燥導致日溫差大；然而青藏高原由於地形的影響，終年涼爽，年溫差小。

41. ()紐西蘭除了地形景觀豐富外，還因受到下列何者的影響，境內自然景觀少受破壞，吸引了大量觀光客？(A)面積狹小 (B)牧業發達 (C)地震頻繁 (D)人口稀少。

答案：(D)

解析：當地因為人口密度低，自然景觀較少受到人為破壞。

42. ()大林國中二年級同學為迎接校慶排演了一齣汴京夜市的歷史劇，為求演出情節逼真符合史實，布景、服裝、道具都要考究。下列何者最具參考價值？(A)《四書集注》 (B)《清明上河圖》 (C)《夢溪筆談》 (D)《武經總要》。

答案：(B)

43. ()星雅參加班上「西周風雲」話劇演出，飾演一位住在城中的貴族，若話劇內容須合於史實，下列何者最可能是他在劇中的生活情況？〔100.第一次基測修訂〕(A)依照身份等級，受封土地和爵位 (B)乘坐馬車，到夜市採買日常用品 (C)主持科舉考試，掌握官員的任命權 (D)熟讀四書五經，輔佐君王治理國家。

答案：(A)

44. ()中國的天然植物受到氣候環境的影響明顯，其中以秦嶺、淮河為重要的地理分界線。通常在秦嶺、淮河以南的地區，呈現何種主要糧食作物的分布特色？(A)高溫乾燥的稻米生長 (B)高溫多雨的小麥生長 (C)高溫多雨的稻米生長 (D)涼爽多雨的小麥生長。

答案：(C)

解析：秦嶺、淮河一線以南，因氣溫普遍較高，降水量較多，適合稻米生長。

45. ()中國清代大臣覲見皇帝時要行叩頭禮，當時藩屬國的來使接受中國冊封時，也要行三跪九叩之禮。在清乾隆時期，因跪拜禮節爭議而使哪一國的使者無功而返？(A)法國 (B)俄國 (C)英國 (D)德國。

答案：(C)

46. ()紐西蘭位於環太平洋的火山地震帶上，這對當地的影響主要為何？(A)面積狹小 (B)山地地形 (C)冰河地形 (D)草原廣大。

答案：(B)

解析：火山地震帶上的板塊活動發達，易形成山地地形。

47. ()中國歷史上，民族融合以哪一個時期最為顯著？(A)春秋戰國 (B)秦漢 (C)魏晉南北朝 (D)隋唐。

答案：(C)

48. ()南極地區的氣候條件相當特殊，因此吸引許多科學家前往研究。請問：該地區的氣候現象和當地哪些因素的關係最大？(A)緯度、風向 (B)地形、風向 (C)經度、地形 (D)緯度、地形。

答案：(D)

解析：南極地區因為緯度高，再加上高原地形，所以氣候嚴寒。

49. ()附表為2015年全球二氧化碳排放量最高的前十個地區或國家，請由表中資料判斷，人均排放量高低和下列何者的關係最為密切？

國家或地區	年二氧化碳排放量(千噸)	占全球總數的百分比(%)	人均排放量(噸)
世界	36,061,710	100	
中國	10,641,789	29.51	7.7
美國	5,172,338	14.34	16.1
歐盟	3,469,671	9.62	6.9
印度	2,454,968	6.81	1.9
俄羅斯	1,760,895	4.88	12.3
日本	1,252,890	3.47	9.9
德國	777,905	2.16	9.6
伊朗	633,750	1.76	8.0
韓國	617,285	1.71	12.3
加拿大	555,401	1.54	15.5

(A)經濟發展 (B)國土面積 (C)氣候環境 (D)緯度位置。

答案：(A)

解析：工業發展會大量排放溫室氣體，可知二氧化碳排放量和該國的經濟發展程度關係最大。

50. ()王老師告訴大家：「當你從太平洋西側的密克羅尼西亞出發，前往東側的玻里尼西亞時，會經過一條經緯線，因此必須將手錶上的日期減一天。」請問：王老師所說的經緯線為下列何者？(A)經度0度 (B)經度90度 (C)經度180度 (D)緯度90度。

答案：(C)

解析：國際換日線大致與經度180度相符。

51. ()附表是我國辦理總統大選時四位國民的相關資料。根據資料判斷，下列何人最可能在本次選舉中具有投票資格？

姓名	年齡	備註
阿中	17歲	曾擔任校內自治市市長
小冰	24歲	受法院監護宣告
濃濃	46歲	受法院宣告褫奪公權
安安	19歲	曾有傷害罪前科

(A)阿中 (B)小冰 (C)濃濃 (D)安安。

答案：(C)

解析：年滿 20 歲有選舉權，即使被褫奪公權仍有投票權。

52. () 中國由於幅員面積相當廣大，因此各地廣建高鐵以運輸旅客，有助於協助區域發展。附圖為中國的高鐵分布圖，請問：哪一個經濟區鐵路分布最少？



- (A) 東北地區 (B) 東部地區 (C) 中部地區 (D) 西部地區。

答案：(D)

解析：由圖中的路線分布可以判斷，中國高鐵路線較少的地區為西部地區。

53. () 清代康有為的變法，其所以失敗，是受到什麼因素的影響？ (A) 新法朝令夕改 (B) 守舊人士的反對 (C) 外國勢力的阻撓 (D) 領導人的知識不足。

答案：(B)

54. () 在元帝國統治下，政權的主體，從中央到地方的重要官職，均由下列何者擔任？ (A) 色目人 (B) 蒙古人 (C) 漢人 (D) 南人。

答案：(B)

55. () 王老師上課時提到：「這個時期的政權基本上是南北對峙，北方是胡人政權重複併吞與分裂的紛亂局面，不少北方人民為逃避戰亂而南遷。南方的執政者配合南遷人士所帶來的技術與人力，促成南北兩地的交流，也讓南方經濟日漸繁榮。」請問：上述描述是指下列哪個時期？ (A) 西周時期 (B) 春秋戰國時期 (C) 秦漢時期 (D) 魏晉南北朝時期。

答案：(D)

解析：魏晉南北朝時期，因漢人政權衰弱，在永嘉之禍以後，北方草原民族紛紛入主中原，漢人被迫大規模向南方遷徙。為南方帶來充沛的人力和耕作技術，增進了長江流域的開發，奠定日後經濟重心和文化重心南移的基礎。

56. () 有關明清時期經濟發展的情況，下列何者正確？ (A) 玉米、番薯等作物經由絲路傳入中國 (B) 與外國沒有貿易的往來 (C) 明清時期，製瓷業以江西景德鎮最著名 (D) 貨幣以紙幣與銅錢並用為主。

答案：(C)

解析：(A) 從美洲傳入 (B) 朝貢貿易 (D) 白銀與銅錢並用。

57. () 依《中央法規標準法》的規定，下列何者屬於「

法律」位階的名稱？ (A) 規程、規則、細則、辦法 (B) 綱要、標準、準則、條例 (C) 法律、條例、通則 (D) 細則、辦法、條例、通則。

答案：(C)

58. () 小萱將監察院的三項職權整理成附表所示。請問：表中甲、乙、丙依序應填入何項職權？

	對象	程序
甲	以「公務人員」為對象	向司法院懲戒法院提出
乙		向被糾舉人的主管或上級長官提出
丙	以「行政機關」為對象	向不當施政的行政機關提出

- (A) 糾舉、彈劾、糾正 (B) 糾舉、糾正、彈劾 (C) 彈劾、糾舉、糾正 (D) 糾正、糾舉、彈劾。

答案：(C)

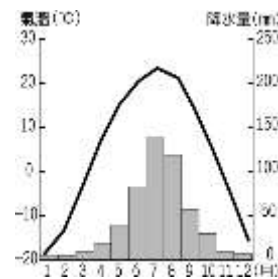
59. () 中國近年來正積極推動「西部開發」政策，希望加速西部地區的經濟發展，減少區域發展不均的問題。目前中國西部地區經濟發展最不利的條件為下列何者？ (A) 面積狹小 (B) 缺乏原料 (C) 交通不便 (D) 缺乏鄰國。

答案：(C)

60. () 中國東半部地區人口聚集、產業活動較為發達，和西半部形成強烈的對比。這種現象是受到下列哪一項因素的影響？ (A) 面積大小 (B) 礦產豐缺 (C) 地形起伏 (D) 氣溫高低。

答案：(C)

61. () 附圖為中國某地區的氣溫降水量氣候圖，若由其氣候類型加以判斷，該地區主要的水氣來源為下列何處？



- (A) 大西洋 (B) 印度洋 (C) 太平洋 (D) 北極海。

答案：(C)

解析：當地屬於溫帶季風氣候區，因此水氣主要來自東方的太平洋。西南方的印度洋水氣主要供應熱帶季風氣候區。

62. () 英國歷史學家阿克頓爵士曾說過：「權力使人腐化，絕對的權力，絕對的腐化。」從下列四人對其國家政府體制的介紹中，何者最能避免阿克頓爵士所指的狀況？ (A) 小東：我國政權集中在領導人一人手上 (B) 小義：我國中央政府權力分為行政、立法、司法三權 (C) 小瑜：我國由單一政府機構主掌政權 (D) 小嬋：全國並無任何機構可制衡施政部門。

答案：(B)

63. () 毅筑在一法律論壇看到附圖案例，根據內容所示，下列何者說明較為正確？



- (A) 民眾不應為個人權益損及公司利益 (B) 法律無法干涉私人企業的任用問題 (C) 法律規範讓政府執法上有明確依據 (D) 人民普遍缺乏維護自己權利的管道。

答案：(C)

解析：在法治社會，政府機關以法律為依據，保障人民權利。

64. () 近年來，中國許多內陸的民工不願再到沿海地區工作，反而留在家鄉就業，使沿海地區爆發嚴重的「缺工潮」，沿海工廠只好不斷放寬條件限制，或以其他誘因來吸引員工。下列何者最可能是造成上述缺工潮的原因？〔104.會考〕 (A) 沿海地區的工廠外移 (B) 內陸地區的物價高漲 (C) 沿海地區薪資所得降低 (D) 內陸地區就業機會增加。

答案：(D)

解析：近年來中國部分產業向內陸發展，造成內陸民工選擇回到故鄉或故鄉附近的城鎮工作，使沿海都市出現缺工問題。

65. () 為徹底漢化而禁止原有服裝、語言的邊疆民族政權是下列何者？ (A) 北魏 (B) 遼 (C) 金 (D) 元。

答案：(A)

解析：北魏孝文帝推行漢化的措施有：(1) 禁說胡語，改說漢語 (2) 禁穿胡服，改穿漢服 (3) 鼓勵胡人與漢人通婚 (4) 改胡姓為漢姓。

66. () 李泉是清末民初的知識分子，他認為中國的未來，應要順應時勢潮流而作改變，主張以光緒帝為首，改革舊制、增新機構、廣納建言。依此判斷，他最可能參與下列哪一項運動？〔95.第一次基測修訂〕 (A) 自強運動 (B) 百日維新 (C) 立憲運動 (D) 庚子後新政。

答案：(B)

解析：光緒 24 年，清德宗、康有為與梁啟超推動「戊戌變法」，希望能救亡圖存，卻因守舊派反對。發動政變推翻而宣告失敗。

67. () 隨著經濟的發展，中國的飲食習慣出現改變，畜牧業的需求量與日俱增。然而中國卻在 2017 年及 2019 年出現大規模的禽流感及非洲豬瘟等問題，重創相關產業的發展。上述相關疫情和下列何種養殖方式的關係最大？ (A) 集約化 (B) 多樣化 (C) 環保化 (D) 都市化。

答案：(A)

解析：由於市場需求量大，因此採用高密度集約化的養殖方式，造成出現相關疫情時擴散速度極快。

68. () 中國境內的氣候多以秦嶺及淮河作為分界線，請問：下列有關中國以秦嶺、淮河為分界線的氣候特色的敘述，何者正確？

項目	(甲)年 降水量	(乙)年 均溫	(丙)交 通	(丁)作 物
秦嶺淮 河以北	< 750mm	<0℃	水運 為主	稻米 為主
秦嶺淮 河以南	> 750mm	>0℃	陸運 為主	小麥 為主

- (A) 甲 (B) 乙 (C) 丙 (D) 丁。

答案：(A)

解析：(乙)一月均溫(丙)(丁)南北敘述對調。

69. () 氣候條件影響產業活動的發展，因而造成人口分布的多寡。附圖為中國的氣候類型分布圖。請問：何處人口較為稠密？



- (A) 甲 (B) 乙 (C) 丙 (D) 丁。

答案：(A)

解析：甲為季風氣候區，由於降水量較為豐富，因此有利農業發展，人口較多。

70. () 萍萍平時喜歡收看政論節目，因為認同某政黨的理念而加入成為其黨員。為了幫助黨內的候選人勝選，她在選舉期間透過社群媒體傳播「只要民眾蓋特定號次，就會變成廢票」的不實言論，企圖干擾選舉。有關上述內容的判斷，下列何者正確？ (A) 加入政黨是最常見的政治參與方式 (B) 收看政論節目是一種政治參與 (C) 萍萍散布不實言論的做法值得學習 (D) 散布假訊息是政治參與的方式之一。

答案：(B)

解析：收看政論節目屬於政治參與的方式之一。

71. () 乾隆時，為加強控制海上貿易，將通商口岸限定於何地，反而埋下日後中西衝突的遠因？ (A) 廣州 (B) 廈門 (C) 寧波 (D) 杭州。

答案：(A)

72. () 人民可請求國家從事一定的行為，而享受特定利益的權利，是指下列何種基本權利？ (A) 受益權 (B) 自由權 (C) 平等權 (D) 參政權。

答案：(A)

73. () 以下為天琳參加有獎徵答節目的題目。請問：題目中的□□、○○依序應填入下列何者？

我國覆議制度中規定，若經總統核可後移請覆議，應由□□投票決定，若票數有○○以上贊成維持原決議者，則維持原決議。

- (A) 立法委員、1/2 (B) 監察委員、1/3 (C) 考試

委員、2 / 3 (D)司法院大法官、1 / 2。

答案：(A)

74. ()中國歷史上的民族融合，可分為好幾個時期；從隋唐至元末，相繼注入了哪些新血？(甲)匈奴(乙)契丹(丙)女真(丁)蒙古 (A)甲乙丁 (B)甲乙丙 (C)甲丙丁 (D)乙丙丁。

答案：(D)

解析：匈奴是兩漢～魏晉南北朝時融入。

75. ()中國境內的氣候受到各種因素影響而不同，下列哪一個地形區的夏季氣溫較低，因此不利於農業活動的進行？(A)內蒙古高原 (B)塔里木盆地 (C)青藏高原 (D)雲貴高原。

答案：(C)

解析：青藏高原的平均高度在4,000公尺以上，因此氣溫最低。

76. ()2013年中國繼經濟改革開放的政策後，推出「一帶一路」的經濟計畫，希望能藉由交通發展串聯沿線國家，強化沿線參與國家在哪一方面的發展，以消耗中國過剩的產能？(A)基礎建設 (B)科技產業 (C)加工出口 (D)國土擴張。

答案：(A)

解析：該路線沿線國家的基礎建設普遍不足，因此有利中國相關產業的對外輸出。

77. ()中國受日俄戰爭的啟示，認為一個小國可以打敗兩個帝制大國的原因是政治體制的不同，因而推動了什麼政策？(A)自強運動 (B)戊戌變法 (C)庚子後新政 (D)立憲運動。

答案：(D)

解析：受日俄戰爭的啟示，中國因而推動立憲運動。

78. ()下列哪一種現象會造成山區冰河及兩極冰層融化，導致海水面上升的環境問題？(A)海水汙染 (B)全球暖化 (C)臭氧層破洞 (D)乾旱少雨。

答案：(B)

解析：全球暖化將使冰河及南極冰層融化，導致海水面上升。

79. ()大洋洲分散於世界三分之一面積的海洋中，兩萬多的島嶼如珍珠般散落各地，共分為三大島群，這些島群主要的分界線中不包括下列何者？(A)本初經線 (B)國際換日線 (C)赤道 (D)回歸線。

答案：(A)

解析：大洋洲島與分布於太平洋中，因此不包含位於大西洋的零度經線。

80. ()下列關於國家「主權」的敘述，何者正確？(A)視全國人口數決定主權權力範圍 (B)為國家最高的統治權力，由全體國民所賦予 (C)制定外交政策須經國際組織同意 (D)軍力強盛國家可干涉他國政治事務。

答案：(B)